



TEMEL EĞİTİM
GENEL MÜDÜRLÜĞÜ

MEBİ

SÖZEL BÖLÜM

LGS

9. DENEME

ADI VE SOYADI

www.sosyalciniz.net

OKUL ADI

ADAYIN İMZASI

ADAYIN DİKKATİNE!

1. Bu sınavda Türkçe (20 soru) - T.C. İnkılap Tarihi ve Atatürkçülük (10 soru) - Din Kültürü ve Ahlak Bilgisi (10 soru) - Yabancı Dil (İngilizce) (10 soru) olmak üzere dört bölüm bulunmaktadır.
2. Sınavın süresi 75 dakikadır.
3. Deneme LGS konularının tamamını kapsamaktadır.

MEBİ

Bu testlerin her hakkı saklıdır. Hangi amaçla olursa olsun testlerin tamamının veya bir kısmının Millî Eğitim Bakanlığının yazılı izni olmadan kopya edilmesi, fotoğrafının çekilmesi, herhangi bir yolla çoğaltılması, yayımlanması ya da kullanılması yasaktır. Bu yasağa uymayanlar gerekli cezai sorumluluğu ve testlerin hazırlanmasındaki mali külfeti peşinen kabullenmiş sayılır.

AÇIKLAMA

1. Bu kitapçıkta **50 soru** bulunmaktadır.

Türkçe Testi: 20 soru

T.C. İnkılap Tarihi ve Atatürkçülük Testi: 10 soru

Din Kültürü ve Ahlak Bilgisi Testi: 10 soru

Yabancı Dil (İngilizce) Testi: 10 soru

2. Bu sınav için verilen cevaplama süresi **75 dakikadır** (1 saat 15 dakika).

3. Bu sınavda her testteki doğru cevaplarınızın sayısından yanlış cevaplarınızın sayısının üçte biri çıkarılacak ve kalan sayı o bölümle ilgili ham puanınız olacaktır.

4. Kitapçığın sayfalarındaki boş yerleri müsvedde için kullanabilirsiniz.

5. Cevaplamaya istediğiniz sorudan başlayabilirsiniz. Bir soru ile ilgili cevabınızı, cevap kâğıdında o soru için ayrılmış olan yere işaretlemeyi unutmayınız.

6. Bu kitapçıkta yer alan her sorunun sadece bir doğru cevabı vardır. Cevap kâğıdında bir soru için birden çok cevap yeri işaretlenmişse o soru yanlış cevaplanmış sayılacaktır. İşaretlediğiniz bir cevabı değiştirmek istediğinizde silme işlemi çok iyi yapmanız gerektiğini unutmayınız.

1. Bu testte Türkçe alanına ait 20 soru bulunmaktadır.

2. Cevaplarınızı cevap kâğıdında Türkçe testi için ayrılan kısma işaretleyiniz.

1. Bilim insanları, yeni bulunan tarihî eserin tüm özelliklerini doğru yorumlamak için detaylı bir analiz yapmaya karar verdiler.

Bu cümledeki numaralanmış sözcüklerin anlamca karşılıkları aşağıdakilerin hangisinde verilmiştir?

I

II

- | | |
|--------------|---------------|
| A) incelikle | araştırma |
| B) ayrıntılı | çözümleme |
| C) özenli | eleştirme |
| D) dikkatli | değerlendirme |
2. Giyim kuşamına özen gösteren, şık ve süslü kıyafetleriyle dikkat çeken insanlar için kullanılan bu deyim, eski devirlerden kalma ağırlık ölçülerinin adlarından mirastır. O zamanların en kıymetli parası olan Osmanlı altını, bu ağırlık ölçüleri kadar ağırlığa sahiptir. Bir zamanlar altının değerini belirlemek için kullanılan ölçüler, daha sonra zarif ve özenli görünümü anlatan bir söz hâline gelmiştir. Bu durumda süslenmiş kimselere ---- yakıştırmasında bulunanlar, mecaz yoluyla onlara "altın" demiş olurlar ki bu pek zarif bir nüktedir.
- Bu metinde boş bırakılan yere anlam akışına göre aşağıdaki deyimlerden hangisi getirilmelidir?**
- A) hokka gibi
B) altın top gibi
C) boyu posu yerinde
D) iki dirhem bir çekirdek

3. Nitelikli bir kitabı ilk defa okuduğum zaman yeni bir dost edindim sanırım; beğendiğim, sevdiğim bir kitabı tekrar okuduğum zaman da eski bir dostta kavuşmuş gibi olurum.

Aşağıdakilerden hangisi anlamca bu cümleye en yakındır?

- A) İyi kitaplar dostlar gibidir, yenisi de eskisi de insana dost sıcaklığı hissettirir.
- B) Faydalı kitaplar iyi dostlar gibidir, bize her zaman doğru yolu gösterir.
- C) Bir kitabın ne kadar değerli olduğu ancak üzerinden zaman geçtikten sonra anlaşılır.
- D) Hayatımızın en yalnız anlarında her zaman gerçek dostlarımız kitaplardır.
4. Disiplinin dışarıdan dayatılan kısıtlayıcı bir unsur olduğunu varsayarak ondan kaçma eğilimi gösteriyoruz. Hâlbuki iç disiplinemizi inşa etmeyi başardığımızda bizi doğrulara götüren yolu keşfediyor, toplumda saygınlık kazanıyor ve zamanımızı daha verimli kullanabiliyoruz.

Bu metinde eleştirilen durum aşağıdakilerden hangisidir?

- A) Kısıtlayıcı disiplinin, bireyin gelişimini sağlayan bir ölçüt olarak kabul edilmesi
- B) Disiplinin, insanı başarıya ve saygınlığa ulaştıran temel unsur sayılması
- C) İç disiplin sayesinde zamanın daha planlı ve verimli kullanılması
- D) Disiplinin dış etkilerle benimsetilen bir sınırlayıcı görülerek ondan uzaklaşılması

5. Talebelerinden biri Sokrates'e sormuş: "Herkes güzel konuşma dersleri verdiğiniz ve onlara hitabet sanatını öğrettiğiniz hâlde niçin siz de çıkıp bir konuşma yapmıyorsunuz?" Evlat, demiş Sokrates: "Bileği taşı keskin değildir ama en sert demiri bile keskin eder."

Bu metinde altı çizili ifade ile anlatılmak istenen aşağıdakilerden hangisidir?

- A) Dışarıdan gelen etkili müdahaleyle herkesin iyi bir sonuca ulaşacağı
- B) Güzel konuşmayı öğretmenin güzel konuşmaktan önemli olduğu
- C) Öğretme ve uygulamanın birbirinden bağımsız süreçler olduğu
- D) Öğretmenin tek amacının kendinden daha iyi öğrenciler yetiştirmek olduğu
6. Hezarfen Ahmed Çelebi, dünyada ilk kez uçmayı başaran Türk bilginidir. 17. yüzyılda yaşadığı, Sultan IV. Murad zamanında uçuşu tasarısını gerçekleştirdiği ve geniş bilgisinden ötürü halk arasında becerikli ve yetenekli anlamına gelen Hezarfen olarak anıldığı bilinmektedir. Evinde deneylerle uğraşan çeşitli konularda araştırmalar yapan Hezarfen Ahmed Çelebi, İsmail Cevherî gibi bilginlerden ilham alarak bugünkü hava taşıtlarının ilkel şeklini tasarlamıştır.

Bu parçayla ilgili,

- I. Benzetmeden yararlanılmıştır.
II. Tanık göstermeye başvurulmuştur.
III. Örneklendirmeye yer verilmiştir.
IV. Bir durum gerekçesiyle verilmiştir.

yargılarından hangileri doğrudur?

- A) I ve II
B) I ve IV
C) II ve III
D) III ve IV

7. I. Sanayide ham madde tasarrufu sağlayan geri dönüşüm, doğal kaynakları doğrudan korur.
II. Türkiye, sıfır atık projesi kapsamındaki geri dönüşüm hamleleriyle çevre kirliliğinin önüne geçmeyi hedeflemektedir.

Bu cümlelerin anlamca doğru bir biçimde birleştirilmiş hâli aşağıdakilerden hangisidir?

- A) Türkiye, sıfır atık projesi kapsamındaki geri dönüşüm hamleleriyle çevre kirliliğinin önüne geçerek doğal kaynakları doğrudan koruyan sanayide ham madde tasarrufu sağlamayı hedeflemektedir.
- B) Sanayide ham madde tasarrufu sağlayarak doğal kaynakları doğrudan koruyan geri dönüşüm ile Türkiye, sıfır atık projesi kapsamındaki geri dönüşüm hamleleriyle çevre kirliliğinin önüne geçmeyi hedeflemektedir.
- C) Türkiye'nin geri dönüşüm hamleleriyle çevre kirliliğinin önüne geçmeyi hedefleyen sıfır atık projesi, sanayide ham madde tasarrufu sağlayan doğrudan geri dönüşümle doğal kaynakları korur.
- D) Sanayide ham madde tasarrufu sağlayan geri dönüşümle doğrudan çevre kirliliğini koruyan Türkiye, sıfır atık projesi kapsamındaki geri dönüşüm hamleleriyle doğal kaynakların önüne geçmeyi hedeflemektedir.

8. Günümüzde kullanılan hâli ile keman, 14. yy.da Kuzey İtalya'da ortaya çıkmıştır. En tanınmış orkestra çalgısıdır ve keman ailesinin en yüksek tondan çalan, en küçük üyesidir. Kemanın uzunluğu 60 cm, sesi 4 oktavdır. Hiçbir çalgıda olmayan ses rengi, kemana çok zengin bir anlatım gücü tanır. Yapay ya da gerçek at kılınının yanı sıra ham misina denilen bir maddeden yapılan ve "arşe" diye adlandırılan yayla çalınır.

Bu metinde keman ile ilgili aşağıdakilerden hangisine değinilmemiştir?

- A) Hangi coğrafyada doğduğuna
- B) Orkestra içindeki yerine
- C) Gövdesinin yapımında kullanılan maddelere
- D) Uzunluğu ve ses aralığına

9. Yoğun bir hareketlilik ve büyük bir dönüşüm yaşanan iş gücü piyasasında işlerin geleceği değişirken bu işleri icra edecek kişilerin sahip olması gereken beceri ve yetenekler de doğal olarak farklılaşıyor. Endüstrinin olmazsa olmazı durumundaki yapay zekâ, robotik, otomasyon gibi teknolojiler ile küresel ve kitlesel zorluklar; çalışanları becerilerini geliştirmeye ve yeni beceriler edinmeye zorluyor.

Bu metinde asıl anlatılmak istenen aşağıdakilerden hangisidir?

- A) Çalışanların yeni beceriler kazanmaları ve becerilerini geliştirmelerini zorunlu hâle getiren durum, iş gücü piyasasında yaşanan dönüşüm ve gelişmelerdir.
- B) İş dünyasında yaşanan dönüşüm ve gelişmeler, yeni teknolojilerin ortaya çıkmasıyla iş gücüne olan ihtiyacı azaltmıştır.
- C) Teknolojiye dayalı yapay zekâ, robotik, otomasyon gibi iş gücü alanlarında çalışanlar; değişen gelecekte en çok aranan becerilere sahip insanlardır.
- D) Yeteneklerini geliştiren çalışanlar, iş gücü alanında oluşan yoğun hareketliliğin küresel zorluklarıyla kolayca baş ederler.

10. Bazı insanlar başarısının sadece yetenekle elde edildiğini düşünür. Oysa yetenek tek başına yeterli değildir. İnsan, hedeflerine ulaşmak için düzenli ve disiplinli bir şekilde çalışmalıdır. Çünkü ----

Bu parçada boş bırakılan yere düşüncenin akışına göre aşağıdakilerden hangisi getirilebilir?

- A) başarıya giden yol, yeteneklerin farkına varmakla başlar.
- B) emekle beslenmeyen yetenek, heba edilmiş bir potansiyeldir.
- C) çalışma disiplini, yetenekten bağımsız bir başarı kriteridir.
- D) azimli insanlar, yetenekli olanlardan her zaman daha şanslıdır.

11. (I) Bilim insanları, böceklerin uçuşlarını ışığın nasıl etkilediğini araştırdı. (II) Işık kaynağını gökyüzünün parlaklığını temsil edecek şekilde yere doğru tuttuklarında böcekler normal uçuşta. (III) Işık kaynağını farklı yönlerde doğru çevirdiklerinde ise böcekler ışığa doğru değil ışığı daima arkalarına alarak uçuştu. (IV) Böylece böceklerin, ışığı hangi yönün yukarı olduğunu anlamak için kullandıklarını gördüler. (V) Ayrıca yapay ışıklar böceklerin yön algısını bozduğundan ışıkların çevresinde uçuyor olabilecekleri sonucuna ulaştılar.

Bu metinde numaralanmış cümlelerle ilgili aşağıdakilerden hangisi doğrudur?

- A) II. cümlede benzetme vardır.
- B) III. cümlede abartma vardır.
- C) IV. cümlede koşul anlamı vardır.
- D) V. cümlede neden-sonuç anlamı vardır.

12. Eskiden komşu komşunun külüne muhtaçtı, şimdi komşu komşunun Wi-Fi şifresine muhtaç hâle geldi. Sokakta yürürken kafasını kaldırıp gökyüzüne bakmanı bulmak, çölde su bulmaktan farksız. Herkesin boynu bükük ama dertten değil avuç içindeki o ışıklı camdan! Geçen gün bir kafede oturdum. Yan masada dört genç... Görünüşe göre “buluşmuşlar” ancak garip olan şu ki yarım saat boyunca birbirlerinin yüzüne bir saniye bile bakmadılar. Parmaklar ekranda piyano çalıyor, yüzlerde donuk bir ışık... Arada bir sadece fotoğraf çekmek için bir araya gelip sahte bir kahkaha atıyorlar, flaş patlıyor ve hop, herkes kendi dijital hücrelerine geri dönüyor!

Bu metnin türü ile ilgili aşağıdaki bilgilerden hangisi doğrudur?

- A) Geçmişte yaşanmış, toplumun üzerinde derin izler bırakan bir olay anlatılmıştır.
- B) Bir konu ile ilgili tespitler bilimsel gerçekliğe uygun olarak anlatılmıştır.
- C) Anlatılmak istenenler bir olay örgüsü içinde kurgulanarak aktarılmıştır.
- D) Güncel bir konuda yazarın kişisel görüşleri özgün ve akıcı bir üslupla verilmiştir.

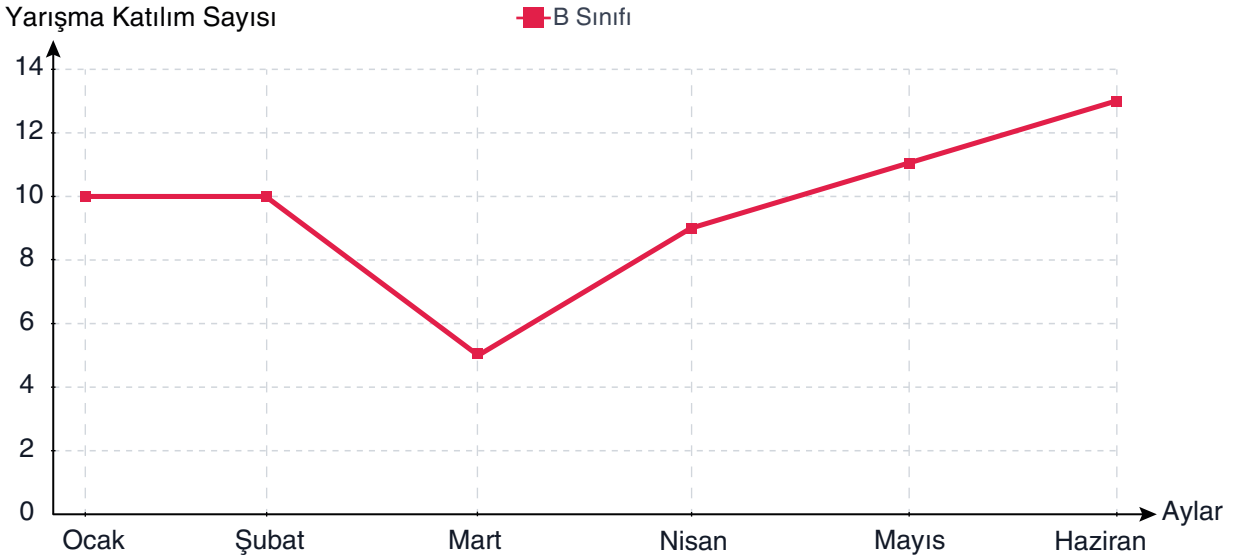
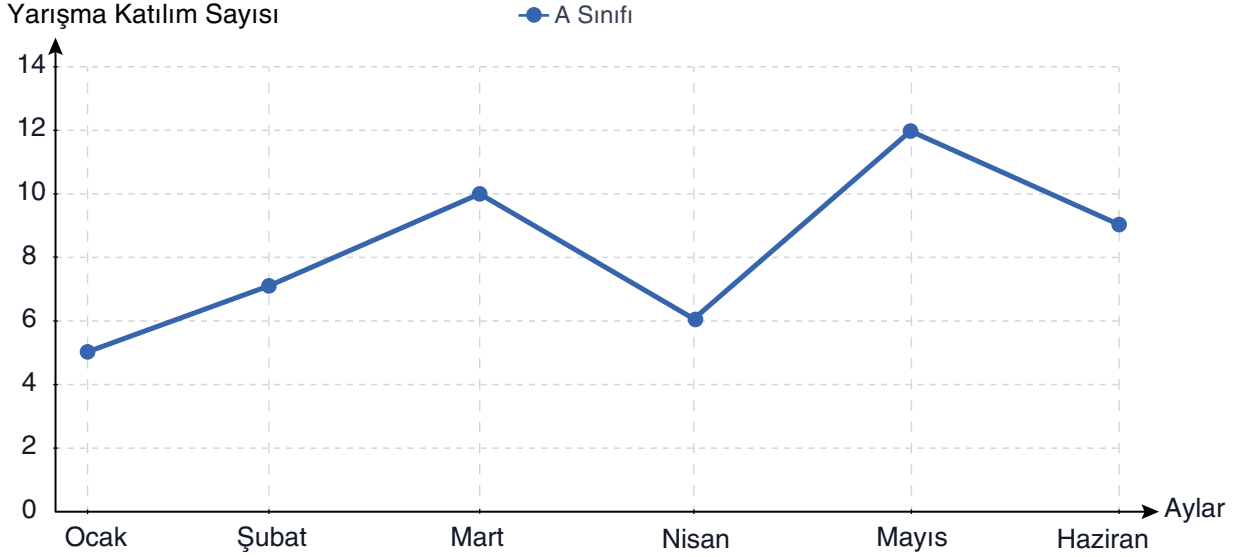
13. Fatma'nın perşembe günü yedi saat dersi vardır. Bu dersler; Türkçe, müzik, fen bilimleri, yabancı dil ve beden eğitimidir. Derslere hangi sırayla gireceği ile ilgili şu bilgiler verilmiştir:

- Üç ders birer saat, iki ders ise ikişer saattir.
- İki saat olan dersler tek tek bölünmemiştir.
- Fen bilimleri ve beden eğitimi dersi arasında üç farklı ders vardır.
- Beden eğitimi dersi iki saattir.
- İlk ders tek saat olan derslerden biridir.
- Türkçe dersinden sonra tek saatlik iki farklı ders vardır.

Bu bilgilere göre ders programındaki iki saatlik diğer ders hangisidir?

- A) Türkçe
- B) Müzik
- C) Fen bilimleri
- D) Yabancı dil

14. Aşağıdaki grafiklerde A ve B sınıfındaki öğrencilerin aylara göre katıldıkları resim yarışması sayıları gösterilmiştir.



Bu bilgilere göre,

- - - - - ayında A ve B şubelerinin katılım sayısı arasındaki fark en azdır.
- - - - - ayında bir önceki aya göre A şubesi artış gösterirken B şubesinde bir değişiklik olmamıştır.
- - - - - aylarında bir önceki aya göre A şubesinin katılım sayısı azalırken B şubesinin katılım sayısı artmıştır.

cümlelerinde boş bırakılan yerlerin herhangi birine aşağıdakilerden hangisi getirilemez?

A) Mart

B) Nisan

C) Mayıs

D) Haziran

15. Bir hikâye yazma etkinliği için aşağıdaki şartlar belirlenmiştir:

- I. Konusu “Merhametli olmak” olmalıdır.
- II. Yer ve zaman unsuru belli olmalıdır.
- III. Hayalî öğelere yer verilmemelidir.

Buna göre aşağıdaki hikâyelerden hangisinde numaralanmış şartların tamamı sağlanmıştır?

- A) Sıcak bir yaz günü güneşin sarısı göz kamaştırmakta, kavurucu sıcak yeryüzünün bütün suyunu buharlaştırmaktaydı. Ali her zamanki gibi sabah erkenden uyanmış, pamuk tarlasında diğer ırgatların arasındaki yerini almıştı. Öğle molası gelince Ali çıkını çıkardı, su ve aızığını hazır etti. Yemeğini bitirip işinin başına geçebilmek için lokmaların biri bitmeden diğerini ağızına atıyordu. Zaten o acele etmese işçilerin başında bekleyen kâhya onu durdurmazdı çünkü kâhyanın tek derdi işlerin yetişmesiydi. Ne sıcak ne de işçilerin yorgunluğu kâhyanın sert tavrını değiştiriyordu.
- B) Küçük Ela deniz kıyısında bir kasabada yaşıyordu. Doğduğundan beri kasabanın sokaklarında arkadaşları ile koşup oynarlardı. Kasabanın her sokağını karış karış bilirdi. Ela bir gün sahil yolunda keyifle yürürken sahilin sonuna doğru başlayan küçük ağaçlık alanda daha önce hiç fark etmediği patika bir yol keşfetti. Bu yolu daha önce fark etmemiş olması imkânsızdı. Biraz daha yaklaşıncaya kadar bulutların arasına uzanan bir merdiven fark etti.
- C) Kanlıca sahili sabahın ilk ışıkları ile aydınlanmaya başlamıştı. Muhterem Efendi, yaşından beklenmeyecek çevik hareketlerle çay evinin kepengini açıp ocağa yöneldi. Günün ilk çayının buharı içeriye ısıtmaya başladığı anda üşüdüğü her hâlden anlaşılan, yüzü buruşuk ama akça pakça yaşlı bir adam içeriye girdi. Selamlaştıktan sonra ellerini cebine attı ama cepleri boştu. Muhterem Efendi bunu fark ettiğinde hüzünlendi ve masasına bir bardak çay bırakırken “Bugünün bereket sifhati benden olsun.” dedi.
- D) İstanbul’un uzak sayılabilecek semtlerinin birinde başka bir âlemin yaşandığı bir mahalle vardı. Burası bahçeli, tek katlı, bahçesinde çiçeklerin kaynaştığı, sevimli evlerin olduğu bir mahalleydi. Sabah olduğunda sardunyalılar güneşe dönüp gülümser, akşam olunca yaseminler bütün mahalleye usulca ninni söylerdi. Evlerin sakinleri mahallelerine, ev ve bahçelerinin düzenine çok dikkat ederlerdi. Kendi hâllerinde geçinip gitmeyi öğrenmişlerdi. Köşe başındaki evde oturan Munise teyzeye de kimsesizliğini hiç hissettirmiyorlardı. Mahalleden bir aile onun yemek, temizlik gibi işlerini sırayla yapıyordu.

16. Aşağıda bazı balıkların hangi aylarda, hangi pişirme yöntemleri ile tüketilebileceği tablo hâlinde verilmiştir.

Balık Türleri	Aylar												Pişirme Yöntemleri				
	1	2	3	4	5	6	7	8	9	10	11	12					
Hamsi													✓			✓	✓
İstavrit													✓			✓	✓
Lüfer													✓	✓	✓	✓	
Palamut													✓		✓	✓	✓
Uskumru													✓			✓	✓
Levrek													✓	✓		✓	
Tekir													✓			✓	
Kalkan																✓	✓
Çipura																✓	✓

Balığın en lezzetli zamanı

Balığın yenilebileceği zaman



Fırında Pişirme



Haşlama



Buğulama



Tavada pişirme



Izgara

Bu tablodan hareketle aşağıdakilerden hangisi söylenemez?

- A) Hamsi, palamut ve levrek yılın dört ayında en lezzetli hâlinde tüketilebilir.
- B) Kalkanın tüketilemediği aylarda istavrit en lezzetli hâlinde yenilebilir.
- C) Lüfer ve uskumru yılın üç ayında en lezzetli hâlinindedir ve fırında pişirilebilir.
- D) Yılın her ayında tüketilebilen balıklar, tavada pişirme yöntemine uygundur.

17. Yıldızlı gecelerde pek çoğumuz gökyüzüne bakmaktan kendimizi alamayız.

Bu cümlelerin öge dizilişi aşağıdakilerden hangisidir?

- A) Zarf tamlayıcısı / özne / yer tamlayıcısı / yüklem
B) Yer tamlayıcısı / özne / nesne / yüklem
C) Yer tamlayıcısı / özne / zarf tamlayıcısı / yüklem
D) Zarf tamlayıcısı / özne / nesne / yüklem

18. (I) Dün akşamki tiyatroya kuzenim ve arkadaşlarımla gittik. (II) Oyun çok güzeldi, oyuncular da sahnede harika bir performans sergilediler. (III) Oyun bittikten sonra oyuncular seyircileri selamladı ve bizde onları ayakta alkışladık. (IV) Çıkışta biraz yürüyüp köşedeki çay bahçesinde oturduk ve çaylarımızı içtik.

Bu parçada numaralanmış cümlelerden hangisinde yazım yanlışı vardır?

- A) I B) II C) III D) IV

19. I. Ben evi süpürürken onlar salona sofrayı kurdu.
II. Dün abim ve ben, dedeme çok beğeneceği bir hediye aldık.
III. Doğa sevgisi ve temizlik alışkanlığını çocuğa erken yaşta kazandırmak önemlidir.
IV. Geçen hafta incelediğimiz kitabı topluca sipariş ettik.

Numaralanmış cümlelerin hangilerinde aynı tür fiilimsiler kullanılmıştır?

- A) I ve II B) I ve III
C) II ve IV D) III ve IV

20. Beren, kuru yaprakların çıkardığı hisırtıları dinleyerek rüzgâra karşı bir müddet daha yürüdü.

Aşağıdaki cümlelerin hangisinde virgül (,) bu cümledeki göreviyle kullanılmıştır?

- A) Olur, bu sefer sizin planınıza ve iş takviminize göre hareket edelim.
B) Palto ve şapkasını çıkardı, onu heyecanlı bekleyen kalabalığı selamladı.
C) Başarısını sabır, çalışkanlık ve kararlılığına borçlu olduğunu söylledi.
D) Ailesine umut ışığı olan bu bebek, göz açıp kapayıncaya kadar delikanlı olmuştu.

1. Bu testte T.C. İnkılap Tarihi ve Atatürkçülük alanına ait 10 soru bulunmaktadır.
2. Cevaplarınızı, cevap kâğıdında T.C. İnkılap Tarihi ve Atatürkçülük testi için ayrılan kısma işaretleyiniz.

1. İngiliz Ataşemiliteri Albay Ros'un "Siz hangi soylu ailedensiniz?" sorusuna Atatürk şöyle cevap vermişti:
"Ben soylu bir milletin evladıyım! İşte cevabım da size budur!"

Metne göre Atatürk'ün cevabı aşağıdaki kişilik özelliklerinden hangisi ile ilgilidir?

- A) Açık sözlülük
- B) İleri görüşlülük
- C) Yaratıcı düşünce
- D) Vatan ve millet sevgisi

2. Millî Mücadele'ye karşı olan azınlıklar ve İstanbul Hükûmeti ellerindeki basın gücünü sonuna kadar kullanıyor ve Millî Mücadele'yi yıpratmak için her türlü yalan haberi Anadolu'nun en ücra kasabalarına kadar ulaştırıyordu. Bu ortamda halkın Millî Mücadele etrafında birleşmesi için doğru haber alması gerekiyordu. Bu nedenle Mustafa Kemal İrade-i Milliye, Hâkimiyet-i Milliye gazetelerinin yanısıra Anadolu Ajansının da kurulmasına katkı sağladı. Mustafa Kemal, bu girişimleri ile hem milleti ortak düşünceler etrafında birleştirdi hem de Millî Mücadele Dönemi'nde alınmış olan kararların millete ulaşmasını sağladı.

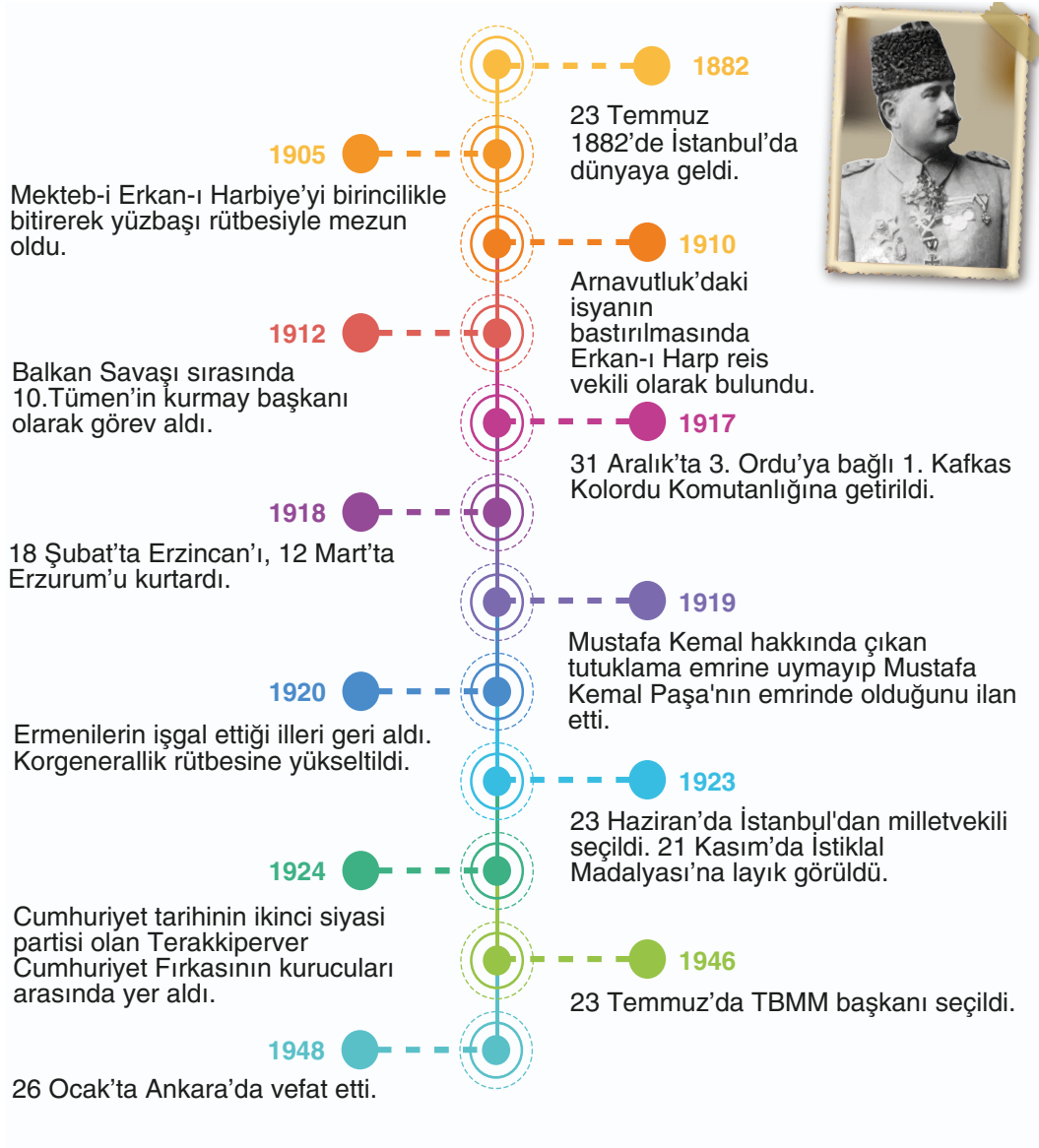
Metne göre Millî Mücadele Dönemi'nde basın-yayın kuruluşları ile ilgili,

- I. Millî Mücadele lehine kamuoyu oluşturulmak istenmiştir.
- II. Halkın güvenilir kaynaklardan haber alması amaçlanmıştır.
- III. İstanbul Hükûmeti basın gücünü Millî Mücadele'yi desteklemek için kullanmıştır.

çıkarımlarından hangileri yapılabilir?

- A) I ve II
- B) I ve III
- C) II ve III
- D) I, II ve III

3.



Bu tarih şeridinde göre Kâzım Karabekir Paşa ile ilgili aşağıdakilerden hangisine ulaşamaz?

- A) Demokratikleşme yolunda çoğulcu siyasetin önünü açacak adımlar atmıştır.
- B) Ülkemizin doğusunun düşman işgalinden kurtarılmasında rol oynamıştır.
- C) Millî Mücadele'ye ve Mustafa Kemal Paşa'ya destek vermiştir.
- D) Siyasi hayatına cumhuriyetin ilanından sonra başlamıştır.

4. Millî Mücadele, Türk milleti için bir ölüm kalım savaşıydı. Bunun farkında olan Türk kadınları da fiilî olarak cepheye katılmakta gecikmedi. Bu yüzden, kahraman Mehmetçiklerimizin yanında Ayşecikler, Fatmacıklar da anılmaya başlandı. Tarihimizde cephede bizzat savaşmış kadın kahramanlara rastlanmaktadır. Yunanlar Sakarya Muharebesi'ni kaybederek Afyon mevzilerine çekildiklerinde bir taraftan da Halil Efe'nin Gördes, Sındırgı, Akhisar yöresinde faaliyet gösteren birliklerinin saldırıları ile karşılaşıyorlardı. Bunların içinde Halil Efe'nin karısı Makbule Hanım da vardı. Makbule Hanım, daha bir yıllık evli iken eşinin yanında mücadeleye katılmıştır. 16 Mart 1922'de Kocayayla'daki bir çatışmada arkadaşlarına cesaret vermek için hızla öne atılınca şehit düşmüştür.

Verilen bilgilere göre aşağıdakilerden hangisine ulaşamaz?

- A) Düzenli ordunun silahlı mücadelesine halk destek vermiştir.
- B) Türk kadını da erkekler kadar vatan savunmasında yer almıştır.
- C) Bu savaş sonucunda Batı Anadolu Yunan işgalinden kurtarılmıştır.
- D) Sakarya Savaşı ile Yunanlar taarruz durumundan savunmaya geçmiştir.

5. Türkiye Büyük Millet Meclisinde 1 Kasım 1922'de kabul edilen bir kanunla, halifelik ve saltanat birbirinden ayrıldı ve saltanat kaldırıldı. Saltanatın kaldırılması ile ortaya çıkan bazı sonuçlar şunlardır:

- I. Millî egemenliğin önündeki en önemli engel kaldırıldı.
- II. Laiklik konusunda ilk adım atıldı.
- III. İtilaf Devletlerinin Lozan Konferansı'nda ikilik çıkarmalarına izin verilmedi.

Buna göre ortaya çıkan sonuçlardan hangileri uluslararası alanda TBMM'nin elini güçlendirmiştir?

- A) Yalnız II
- B) Yalnız III
- C) I ve II
- D) I ve III

6. 1929'da başlayan "Dünya Ekonomik Krizi" ekonomimizi büyük ölçüde etkiledi. Krizin etkisiyle yatırımlar iyice azaldı. Devlet, bu süreçte özel sektörü desteklemeye devam etse de özel sektör bu krizden olumsuz etkilendi ve gerekli yatırımları yapamadı. Bunun üzerine devlet halkın temel ihtiyaçları için ağır sanayiye yönelik yatırımları kendisi yapmaya başladı.

Bu bilgilere göre devletçilik ilkesinin ortaya çıkmasında;

- I. uluslararası iktisadi şartlar,
- II. ülkenin içinde bulunduğu koşullar,
- III. sermaye sahiplerinin talepleri

durumlarından hangilerinin etkili olduğu söylenebilir?

- A) I ve II
- B) I ve III
- C) II ve III
- D) I, II ve III

7. Misakımillî'nin bazı maddeleri şunlardır:

- I. Mondros Ateşkes Antlaşması imzalandığında işgal edilmemiş yerler Türk yurdudur, parçalanamaz.
- II. Azınlıklara verilecek haklar komşu ülkelerdeki Müslümanlara verilecek haklar kadar olacaktır.
- III. Mali gelişmemize engel olan sınırlamalar kaldırılacaktır.

Buna göre alınan kararların ekonomik bağımsızlık, toprak bütünlüğü ve ulusların eşitliği kavramları ile eşleştirilmesi aşağıdaki seçeneklerin hangisinde doğru verilmiştir?

	<u>Ekonomik Bağımsızlık</u>	<u>Toprak Bütünlüğü</u>	<u>Ulusların Eşitliği</u>
A)	II	I	III
B)	II	III	I
C)	III	I	II
D)	III	II	I

8. Mustafa Kemal, istasyondan şehre doğru bir süre yürüdü. Onu görmek için sabahtan itibaren yolları dolduran Tarsusluların arasında neşe ile selam vererek ilerledi. O sırada ansızın bir olayla karşılaştı. Millî Mücadele'deki bir kadın, Mustafa Kemal'in yolunu keserek ayağına kapandı. Gözyaşları içerisinde:

— Bastığın toprağa kurban olayım Paşam! dedi.

Onu yerden kaldırmak için eğilen Mustafa Kemal'in kulağına, bu kadının Kurtuluş Savaşı'nda cephelerde çarpışmış olan Adile Çavuş olduğunu fısıldadılar. Gözlerinden iki damla yaş düşen Mustafa Kemal onu ayağa kaldırıp:

— Kahraman Türk kadını! Sen yerlerde sürünmeye değil omuzlar üzerinde yükselmeye layıksın, dedi.

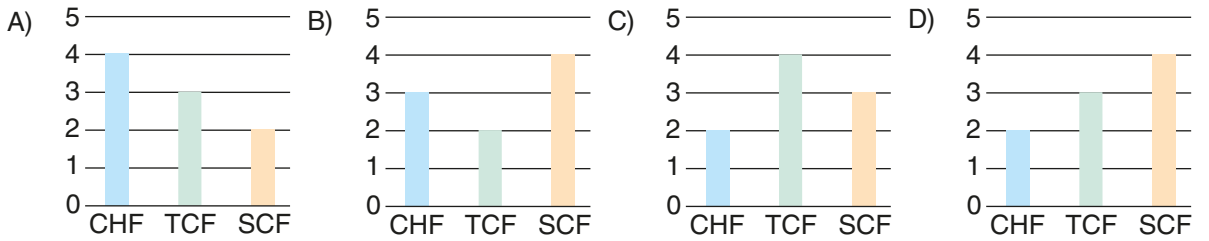
Buna göre aşağıdakilerden hangisi Türk kadınının haklarını geliştirmek için yapılan yeniliklerden biri değildir?

- A) Tevhid-i Tedrisat Kanunu'nun kabulü
- B) Medeni Kanunu'nun kabul edilmesi
- C) Kadınlara seçme ve seçilme hakkının verilmesi
- D) Erkanı Harbiye Umumi Vekaleti'nin kaldırılması

9. Tabloda çok partili hayata geçiş denemeleri sürecinde kurulan partiler ile özellikleri verilmiştir.

Siyasi Partilerin Özellikleri	Cumhuriyet Halk Fırkası (CHF)	Terakkiperver Cumhuriyet Fırkası (TCF)	Serbest Cumhuriyet Fırkası (SCF)
Kâzım (Karabekir) Paşa'nın başkanlığını yaptığı partidir.			
Ekonomide devletçiliği savunan partidir.			
Türkiye'nin ikinci muhalefet partisidir.			
Kurucusu tarafından kapatılan partidir.			
Türkiye'nin ilk muhalefet partisidir.			
Fethi Okyar tarafından kurulan partidir.			
Temelini Müdâfaa-i Hukuk Grubu'nun oluşturduğu partidir.			
1929 Ekonomik Bunalımı'ndan sonra kurulan partidir.			
Türkiye'de kurulan ilk siyasi partidir.			

Tablodaki bilgiler doğru eşleştirildiğinde oluşan doğru sayılarını gösteren grafik aşağıdakilerden hangisidir?



10. Aşağıda Türk dış politikası ile ilgili bazı gelişmeler verilmiştir:

- Montrö Boğazlar Sözleşmesi ile Türkiye'nin Boğazlar üzerindeki egemenlik hakkı sağlanmıştır.
- Misakımillî'de azınlıklara verilecek hakların komşu ülkelerdeki Müslümanlara verilen haklar kadar olması kararı alınmıştır.
- "Yurtta sulh, cihanda sulh" anlayışı ile yeni kurulan Türkiye Cumhuriyeti, Milletler Cemiyetine üye olmuştur.

Bu gelişmeler Türk dış politikasının aşağıdaki ilkelerinden hangisi ile ilişkilendirilemez?

- A) Mütakabiliyet B) Barışçılık C) Durağanlık D) Tam bağımsızlık

1. • Mevsimlerin düzenli değişimi
• Güneş ve Ay'ın hareket etmesi
• Gece ve gündüzün oluşumu

Verilen örneklerin ortak konusu aşağıdakilerden hangisidir?

- A) Biyolojik yasaların işleyişi
B) Evrenin ölçülü yaratılması
C) İnsanın var olan düzeni koruması
D) Evrende sınırlı bir düzenin olması

2. Zeytinburnu Belediyesinin "Doğaya Destek Sizden, Buz Pateni Biletiniz Bizden Projesi", sokaklarda yaşayan yirmi gencin hayatını değiştirdi. Zor koşullar altında büyüyen, bazı zararlı alışkanlıkları olan bu gençler, Belediyenin sağladığı buz hokeyi eğitimi sayesinde disiplinli bir yaşama adım attı ve zararlı alışkanlıklarından uzaklaştı. Bu gençler yoğun antrenmanlar yaparak ve takım ruhuyla çalışarak sezon sonunda Türkiye Buz Hokeyi Süper Ligi'nde şampiyon oldu.

Bu metinden çıkarılabilecek ana düşünce aşağıdakilerden hangisidir?

- A) İnsan karşılaştığı zorlukları aşmak için önce kendi çabasını ortaya koymalıdır.
B) Hayatta başarılı olmak için çevresel imkânların değişmesi yeterlidir.
C) Kader insanın seçimi dışında gerçekleşen olaylar bütünüdür.
D) Başarıya giden yolda şans faktörü önemli bir belirleyicidir.

3. Hz. Muhammed (sav) şöyle buyurdu: "Zalim de olsa mazlum da olsa kardeşine yardım et.' Bunun üzerine birisi, 'Ey Allah'ın Resulü! Eğer mazlum ise yardım ederim, ancak zalimse ona nasıl yardım edeceğim?' dedi. Resulullah buyurdu ki, 'Onu zulümden uzaklaştırırsın veya onun zulmüne engel olursun. İşte bu ona yapacağın yardımdır.'" (Hadis-i şerif)

Bu hadisten hareketle aşağıdakilerden hangisine ulaşılamaz?

- A) Zulme karşı durmak bir yardım çeşididir.
B) Mazlumlara yardım etmek her Müslüman'ın görevidir.
C) Müslüman, çevresindeki olumsuzluklara karşı duyarlı olmalıdır.
D) Zulmeden kişi bu dünyada mutlaka yaptıklarının cezasını çeker.

4. Hz. Şuayb, ticaretteki hileleri terk etmeleri için kavmini şu sözlerle uyararak her işte dürüst olmaya davet etmiştir: "Ey kavmim! Ölçüyü ve tartıyı adaletle tam yapın. İnsanların eşyalarını (mallarını ve haklarını) eksiltmeyin. Yeryüzünde bozgunculuk yaparak karışıklık çıkarmayın. Eğer inanan kimselerseniz Allah'ın bıraktığı helal kazanç sizin için daha hayırlıdır. Ben sizin başınızda bir bekçi değilim." (Hud suresi 85 ve 86. ayetler)

Bu metne göre aşağıdakilerden hangisine ulaşılamaz?

- A) Peygamberler, kavimlerinin yaptıklarından sorumludur.
B) Hileli kazanç bireysel ve toplumsal sorunlara sebep olur.
C) Müminler için Allah'ın rızasına uygun kazanç elde etmek önemlidir.
D) Toplumda huzur ve düzenin sağlanması için bireylerin adaletli olması gerekir.

5. Dinin bireysel, toplumsal ve iktisadi boyutuyla ilgili,

- I. "Muhakkak ki Allah adaleti, ihsanı, akrabaya karşı cömert olmayı emreder; hayâsızlığı, kötülüğü ve zorbalığı yasaklar..." (Nahl suresi 90. ayet)
- II. "... Bilesiniz ki, gönüller ancak Allah'ı zikrederek huzura kavuşur." (Rad suresi 28. ayet)
- III. "Ey iman edenler! Belirlenmiş bir zamana kadar bir borç ilişkisi kurduğunuzda bunu yazın. Aranızdan bir kâtip bunu adaletle yazsın..." (Bakara suresi 282. ayet)

ayetlerinin doğru sıralanışı aşağıdakilerden hangisidir?

	I	II	III
A)	Bireysel	Toplumsal	İktisadi
B)	İktisadi	Bireysel	Toplumsal
C)	Toplumsal	İktisadi	Bireysel
D)	Toplumsal	Bireysel	İktisadi

- 6.** Toplumun sağlıklı şekilde gelişebilmesi, bireylerin hayatlarının güvence altına alınmasıyla mümkündür. Güven içinde yaşamak, düşünmek, sorgulamak ve doğruyu bulmak bireyin hem kendisi hem de toplum adına sağlıklı kararlar almasını sağlar. Aile yapısının korunması ve çocukların sevgi dolu bir ortamda yetişmesi ise bu yapının temel taşlarındandır.

Bu parçada İslam'ın korunmasını amaçladığı temel haklardan hangisine değinilmemiştir?

- | | |
|---------|----------|
| A) Akıl | B) Can |
| C) Din | D) Nesil |

- 7.** "Hz. Peygamber "Ben size, şu vadinin arkasında size saldırmak isteyen süvari birlikleri var.' desem bana inanır mısınız?' diye sordu. Hep bir ağızdan, 'Evet, inanırız... Biz senin bugüne kadar yalan söylediğini hiç görmedik.' diye karşılık verdiler..." (Hadisişerif)

Bu hadiste aşağıdakilerden hangisi vurgulanmaktadır?

- A) Hz. Peygamber'in dürüst kişiliğinin, sözlerinin doğruluğuna dayanması
- B) Hz. Peygamber'in doğruluğu sayesinde güven kazandığı
- C) Askerî risklere karşı hazırlıklı olunması gerektiği
- D) İslam davetinde askerî stratejinin önemi

- 8.** Hz. Peygamber, güçlü kişilere ayrıcalık tanıyıp zayıfları cezalandırmaları sebebiyle geçmiş toplumların adaletten uzaklaştıklarını söylemiştir. Hatta kendi kızının bile bir suç işlediğinde gerekli cezayı uygulamaktan çekinmeyeceğini ifade etmiştir.

Buna göre aşağıdakilerden hangisine ulaşılamaz?

- A) Toplumda adalet, suçun oluşmasını engelleyecek tedbirlerle sağlanır.
- B) Bireylere göre kuralların farklılaşması, adaletin sağlanmasını engeller.
- C) Akrabalık ilişkileri hakkın yerine getirilmesine engel olmamalıdır.
- D) Suçu işleyenden bağımsız olarak suçun kendisi esas alınmalıdır.

9. Kur'an-ı Kerim'in hükümleri, kişinin inancından toplumdaki ilişkilerine kadar pek çok konuyu düzenler. Ayetlerde hem ahlak kuralları hem de toplumsal düzenlemeler bulunur. Hz. Peygamber, bu kuralları açıklayarak insanlara nasıl yaşamaları gerektiğini göstermiş, sünnetiyle onlara rehberlik etmiştir. Bu nedenle Kur'an ve sünnetin bir arada değerlendirilmesi, İslam'ın doğru anlaşılması bakımından merkezi bir öneme sahiptir.

Bu parçada aşağıdakilerden hangisi vurgulanmaktadır?

- A) Ahlaki ilkeler Kur'an'da açıkça yer alır.
B) Hz. Peygamber Müslümanlara örnek olmuştur.
C) Kur'an bireysel ve toplumsal hayatla ilgili hükümler içerir.
D) Kur'an ve sünnet, İslam'ı doğru anlamada birbirini tamamlayan kaynaklardır.

10. "Şüphesiz biz Nuh'u, kavmine, 'Kendilerine elem dolu bir azap gelmeden önce kavmini uyar' diye peygamber olarak gönderdik. Nuh şöyle dedi: 'Ey kavmim! Şüphesiz, ben sizin için apaçık bir uyarıcıyım. Allah'a ibadet edin. O'na karşı gelmekten sakının ve bana itaat edin ki sizin günahlarınızı bağışlasın ve sizi belli bir vakte kadar ertelesin. Şüphesiz, Allah'ın belirlediği vakit gelince ertelenmez. Keşke bilseydiniz.'"

(Nuh suresi 1-4. ayetler)

Bu ayete göre aşağıdakilerden hangisine ulaşılamaz?

- A) İman edenlerin affedileceğine
B) Allah'ın, kullarına mühlet verdiğine
C) Hz. Nuh'un kavminin kendisini yalanladığına
D) Kurtuluşun Allah'a kullukla gerçekleşeceğine

1. Bu testte İngilizce alanına ait 10 soru bulunmaktadır.
2. Cevaplarınızı cevap kâğıdında İngilizce testi için ayrılan kısma işaretleyiniz.

1.

A True Friend

Backs me up when everything goes wrong,
Our bond is real and strong,
I know you'll always be right there,
Hope that will last a whole life long.


According to the poem above, what is the quality of a true friend?

- A) Cheerful
- B) Laid-back
- C) Supportive
- D) Punctual


2.



I want to feel the adrenaline while jumping from a high place with a rope. I think - - - - is a thrilling experience.



It must be an amazing experience to fly like a bird. I really want to try - - - - on my holiday in Fethiye.



My friends and I are going to try - - - -. I hope we can keep our balance in the boat while going fast down the river.

Which of the following extreme sports does NOT fill any of the blanks above?

- A) bungee jumping
- B) rock climbing
- C) paragliding
- D) rafting

3. Lily wants to buy a cup of milkshake. She prefers flavours of sweet fruits.



According to the information above, which buttons should Lily press before the start button?

- A) 1 - 3 - 5
- B) 2 - 5 - 7
- C) 2 - 6 - 8
- D) 3 - 4 - 6

4. Four friends are making a group call.

Tina : Hi, friends! Let's meet up and drink something at Seaside Café!

Mary : That's a great idea.

Amanda : I'd love to, but I have to stay at home and look after my sister all day long.

Max : I promised my cousin that I would take him to a movie. Why don't you join us?

Tina : Why not? That would be more entertaining. What about you, Mary?

Mary : Sounds good. What time are we meeting?

Max : Let's meet at 4 p.m. at the cinema.

According to the conversation above, which of the following is correct?

- A) Tina invites her friends to watch a movie.
- B) Mary can't go to the cinema because of her excuse.
- C) Amanda refuses Tina's invitation without an explanation.
- D) Max gives extra information about the event.

5. Andrea and Liam want to be in the same school club. The table below shows their interests.

Andrea's interests	Liam's interests
<ul style="list-style-type: none">• Listening to music• Going trekking• Playing chess	<ul style="list-style-type: none">• Doing experiments• Writing in a blog• Walking in nature

According to the table above, which club is suitable for both Andrea and Liam?

- A) Outdoor Teens
- B) Science Writers
- C) Pop Singers
- D) Board Gamers

6. Hi, Tom. Did you go on a holiday in summer?

Yeah. I went to Rize and I loved it!

Really? What did you like about it?

I liked the old castles, beautiful nature, and delicious local food.

Nice! Rafting is a popular activity in Rize. Did you try it?

Yes, it was so much fun and adventurous. Everything was great but we stayed at a bed and breakfast hotel and it wasn't comfortable.

I'm sorry to hear that.



Which of the following is NOT mentioned in the dialogue above?

- A) Accommodation
- B) Tourist attractions
- C) Destination
- D) Transportation

7. **Jeremy** : Hello. Can I speak to Adam, please?
Mr Fox : Hello. - - - -?
Jeremy : This is Jeremy, Adam's classmate.
Mr Fox : Oh, OK. - - - -? I'll get him.
 (A few moments later)
Mr Fox : Sorry, he is not available now. Do you want to leave a message?
Jeremy : Yes. Could you please tell him that we have a Science quiz tomorrow?
Mr Fox : - - - -? I can't hear you well.
Jeremy : We have a Science quiz tomorrow.
Mr Fox : OK. I will tell him.
Jeremy : Thanks. Bye.

Which of the following does NOT complete any of the blanks in the phone conversation above?

- A) Could I leave a message
- B) Can you repeat that, please
- C) Can you hold the line, please
- D) May I ask who is calling

8. Albert Einstein was born in Ulm, Germany. He was a physicist. He is known for developing the theory of relativity. He studied at the Swiss Federal Polytechnic School and then at the University of Zurich. He received the Nobel Prize in Physics in 1921. He died on 18 April 1955 in the US.

According to the text above, there is NO information about Einstein's - - - -.

- A) career
- B) success
- C) family
- D) education

9.



Sarah

My brother and I are responsible for the kitchen chores. I load and empty the dishwasher and my brother is in charge of setting the table. I always do my duties but he often ignores his responsibility. I can't stand him.

I share my room with my younger sister and we clean it together. I'm responsible for vacuuming and mopping the floors. She has to dust the furniture. We never argue about our responsibilities. Also, I am not responsible for kitchen chores but I like helping our mother in the kitchen.



Linda

According to the conversation above, which of the following is correct?

- A) Sarah complains about her brother.
 B) Sarah often forgets her responsibilities.
 C) Linda has to do some chores in the kitchen.
 D) Linda argues with her sister about their duties.
10. Ms Yılmaz wants to teach her students about Internet safety rules. She asks her students to write one of their Internet habits on a piece of paper and put it in the correct category.

GOOD HABITS	BAD HABITS
<p>I never share my personal information on the Internet. Barış</p> <p>I talk to my parents about my online friends. Şevval</p>	<p>I spend hours on the Internet and go to bed late. Ahmet</p> <p>I always choose a strong password. Duygu</p>

According to the information above, whose paper is NOT in the correct category?

- A) Ahmet
 B) Barış
 C) Duygu
 D) Şevval