



TEMEL EĞİTİM  
GENEL MÜDÜRLÜĞÜ

MEBİ

SÖZEL BÖLÜM

LOGS

7. DENEME

ADI VE SOYADI

OKUL ADI

ADAYIN İMZASI

ADAYIN DİKKATİNE!

1. Bu sınavda Türkçe (20 soru) - T.C. İnkılap Tarihi ve Atatürkçülük (10 soru) - Din Kültürü ve Ahlak Bilgisi (10 soru) - Yabancı Dil (İngilizce) (10 soru) olmak üzere dört bölüm bulunmaktadır.
2. Sınavın süresi 75 dakikadır.
3. Deneme nisan ayı sonuna kadar olan konuları kapsamaktadır.



Bu testlerin her hakkı saklıdır. Hangi amaçla olursa olsun testlerin tamamının veya bir kısmının Millî Eğitim Bakanlığının yazılı izni olmadan kopya edilmesi, fotoğrafının çekilmesi, herhangi bir yolla çoğaltılması, yayımlanması ya da kullanılması yasaktır. Bu yasağa uymayanlar gerekli cezai sorumluluğu ve testlerin hazırlanmasındaki mali külfeti peşinen kabullenmiş sayılır.

## AÇIKLAMA

1. Bu kitapçıkta **50 soru** bulunmaktadır.

Türkçe Testi: 20 soru

T.C. İnkılap Tarihi ve Atatürkçülük Testi: 10 soru

Din Kültürü ve Ahlak Bilgisi Testi: 10 soru

Yabancı Dil (İngilizce) Testi: 10 soru

2. Bu sınav için verilen cevaplama süresi **75 dakikadır** (1 saat 15 dakika).

**3. Bu sınavda her testteki doğru cevaplarınızın sayısından yanlış cevaplarınızın sayısının üçte biri çıkarılacak ve kalan sayı o bölümle ilgili ham puanınız olacaktır.**

4. Kitapçığın sayfalarındaki boş yerleri müsvedde için kullanabilirsiniz.

5. Cevaplamaya istediğiniz sorudan başlayabilirsiniz. Bir soru ile ilgili cevabınızı, cevap kâğıdında o soru için ayrılmış olan yere işaretlemeyi unutmayınız.

6. Bu kitapçıkta yer alan her sorunun sadece bir doğru cevabı vardır. Cevap kâğıdında bir soru için birden çok cevap yeri işaretlenmişse o soru yanlış cevaplanmış sayılacaktır. İşaretlediğiniz bir cevabı değiştirmek istediğinizde silme işlemini çok iyi yapmanız gerektiğini unutmayınız.

1. Bu testte Türkçe alanına ait 20 soru bulunmaktadır.

2. Cevaplarınızı cevap kâğıdında Türkçe testi için ayrılan kısma işaretleyiniz.

1. Türk toplumlarının kimliklerini yoğuran ve ruh, ahlak, zihniyet dünyasına istikamet çizen çok sayıda âlim, arif, mimar, filozof, seyyah vb. üstün kabiliyetli şahsiyet vardır.

**Bu cümlede altı çizili sözcüğün cümleye kattığı anlam aşağıdakilerin hangisinde vardır?**

- A) Uzun süredir devam eden çalışmalar kurumun işleyişinde köklü bir dönüşüm başlattı.
- B) Dedesinin verdiği nasihat, onun bu kararı almasında dönüm noktası olmuştu.
- C) Öğrencilerin geldiği bu noktada onları şekillendiren, usta öğreticilerinin sonsuz çabasıydı.
- D) Yapılan düzenlemeler topluluğun ortak anlayışında zamanla kalıcı bir etki oluşturdu.
2. I. Deniz, yaptığı projede ayrıntıları karıştırıp işi eline yüzüne bulaştırdı.
- II. Leyla hem resim yapıyor hem de müzik aleti çalıyor, elinden hiçbir şey kurtulmuyor.
- III. Yeni çırak, öğrenmeye öyle hevesliydi ki kısa sürede boynuz kulağı geçti.
- IV. Tamir işlerinden pek anlamayan genç ne hikmetse birden ateş kesildi.

**Bu cümlelerde geçen deyimlerle ilgili aşağıdaki yargılardan hangisi yanlıştır?**

- A) Birinci cümledeki deyim, becerememek anlamında kullanılmıştır.
- B) İkinci cümledeki deyim, her şeyi becerilemeyi ifade eder.
- C) Üçüncü cümledeki deyim, her şeyde becerikli olmak anlamında kullanılmıştır.
- D) Dördüncü cümledeki deyim, sonradan becerikli olmayı ifade eder.

3. Yazar, toplumsal sorunları roman boyunca yalın bir dille işler. Olayları aktarırken okuyucunun zihninde canlı sahneler oluşturur. Betimlemeleri ölçülü kullanır, anlatımı sürükleyicidir. Ancak ----.

**Bu metinde boş bırakılan yere düşüncenin akışına göre aşağıdakilerden hangisi getirilebilir?**

- A) anlatımında samimi bir dille okuyucuya seslenmiştir
- B) dikkatsiz okuyucuyu metnin içine çekmeyi başarmıştır
- C) romanın geçtiği dönemi başarılı bir şekilde yansıtmıştır
- D) ana karakterin iç dünyasını yansıtmada sığ kalmıştır
4. Kişilerin en küçük fedakârlık ve yardımları bile bir hizmetin yerine getirilmesi için yeterli olabilir. Kişi, önemsiz gördüğü bir fedakârlık neticesinde pek bir şey kaybetmez ama başkası için büyük bir iş yapmış olur. Söz gelimi herkes bir miktar yardımda bulursa bir kişinin önemli bir ihtiyacı giderilebilir.

**Bu metnin dil ve anlatımı ile ilgili aşağıdakilerden hangisi söylenemez?**

- A) Koşul anlamı cümle kullanılmıştır.
- B) Karşılaştırma yapılmıştır.
- C) Örneklendirilmeden yararlanılmıştır.
- D) Nesnel anlatıma başvurulmuştur.

5. Büyüme için hormonların salgılanması ve bedenın onlara karşı tepkisi zorunludur. Beden bunu yaparken çok çalışmak, besin ve enerji harcamak zorunda. Bu nedenle sağlıklı büyüme için bizim de bedenimize yardımcı olmamız gerekir. Dengeli beslenmek ve düzenli uyumak, bedenimize büyüme konusunda verebileceğimiz en önemli desteklerdendir. Dengeli beslenme, büyüme sırasında bedenimiz için gerekli olan besin maddelerini sağlamaya yardımcı olur. Yeterli ve düzenli uyku alışkanlığıysa büyüme için sürekli çalışan bedenimizin rahatça dinlenmesini sağlar.

**Bu metinde;**

- I. büyümek için nelere dikkat etmemiz gerektiği,
- II. hormonların büyümeye ne kadar etki ettiği,
- III. beslenme ve uykunun büyümeyi nasıl etkilediği

**ifadelerinden hangilerine değinilmiştir?**

- A) Yalnız I                      B) Yalnız II  
C) I ve III                      D) II ve III

6. Babamın bana küçükken hediye ettiği eski radyo, benim için sadece bir kutu değildi. O, hiç görmediğim dünyaların sesini taşıyan bir araçtı. Her gece yastığımın yanına koyar, o cızırtılı seslerin arasında yeni hikâyeler düşlerdim. Zamanla bu hikâyeleri defterlere dökmeye başladım. Şimdi kitaplarım raflarda yerini aldığıında o radyodaki cızırtıları hâlâ kulağımda duyuyorum. Yazarlık yolculuğumda bu mirası kalemime taşımaktan her zaman gurur duydum.

**Bu metinde altı çizili ifadeyle anlatılmak istenen aşağıdakilerden hangisidir?**

- A) Yazarlık yolculuğunu babasından kalanlarla sürdürmesi  
B) Çocukluk hayallerinden ve anılarından beslenmesi  
C) Yazarlık yeteneğinin ailesinden miras kalması  
D) Geçmişin hatıralarını gelecek kuşaklara taşıma gayesi

7. (I) Düzce; iklimi, zengin doğal kaynakları, bozulmamış çevresi, köklü tarihi, kültürel varlıkları, yerel yaşam tarzı ve gelenekleriyle benzersiz niteliklere sahiptir. (II) Özellikle Ankara ve İstanbul gibi iki büyükşehir arasındaki TEM otoyolu güzergâhında yer alır. (III) Coğrafi konumu nedeniyle Anadolu'daki merkezleri birbirine bağlayan yollar Düzce'den geçer. (IV) Bu nedenle Ankara ve İstanbul arasında köprü vazifesi görmektedir.

**Numaralanmış cümlelerden hangileri yer değiştirirse bu metnin anlam bütünlüğü sağlanmış olur?**

- A) I ve II                      B) II ve III  
C) II ve IV                      D) III ve IV

8. Kitap okumayı genellikle akşam saatlerine ya da yorucu, enerji gerektiren etkinliklerin ve işlerin sonrasına bırakırız. Bu anlar, büyük olasılıkla yorgun hissettiğimiz anlardır. Rahat bir koltuğa oturur ya da yatağımıza uzanır, kitabımızı okumaya başlarız. Vücudumuzun rahat konuma geçmesi, kaslarımızın gevşemesi, dinlenme ve uyku için gerekli ortamı hazırlamış olur. Bir de elimizdeki kitap sürükleyiciyse kendimizi kitabın hayal dünyasına kaptırır, kaygı ve sıkıntılarımızdan uzaklaşmış olarak uykuya geçeriz.

**Bu metin aşağıdaki sorulardan hangisine cevap vermek amacıyla yazılmıştır?**

- A) Sürükleyici bir kitap okurken neden uyuyakalırız?
- B) Kitap okumak ve uyku arasında nasıl bir ilişki vardır?
- C) İyi bir uykudan önceki kitap okuma ortamı nasıl olmalıdır?
- D) Kitap okumak için en ideal zaman günün hangi saatidir?

9. Düşünce ve sanat insanları, sözleri ve yazılarıyla dile değer kazandırır. Bu işi dile yenilikler getirmekten çok onu bükmek, imkânlarını çoğaltmak, gücünü artırmak yoluyla yaparlar. Yeni kelimeler getirmezler. Onları zenginleştirir, anlam ve kullanımını sağlamlaştırır, derinleştirirler. Onlara alışılmamış bir çeşni verirler. Bunu da dört bir yanı düşünerek ustalıklarla yaparlar. Zamanımızın yazarlarına bakınca herkesin harcı olmadığı anlaşılıyor bu işin. Herkes gibi konuşmayı küçümseyerek cüretli işlere girişiyorlar. Yeni bir kelime kullanmak isteğiyle eskisini atıyorlar, çok defa da attıkları kelime yenisinden daha kuvvetli, daha diri duruyor.

**Bu metinde vurgulanan düşünce aşağıdakilerden hangisidir?**

- A) Dili güzelleştiren şey, yeni kelime arayışı değil mevcut kelimelerle özgün ve arı bir dil oluşturabilme çabasıdır.
- B) Kelimeler, eski ve yeni olduğuna bakılmaksızın dilin söz varlığına katılmalıdır.
- C) Dili bir maden gibi işleyerek onun gücünü ortaya çıkarmak ve kelimelere yeni anlamlar kazandırmak gerekir.
- D) Sanatçılar herkes gibi konuşarak halk dilini korumalı, yeni kelimelerle bu dili geliştirebilmelidir.

10. Geçmiş ve gelecek bilincine sahip bir varlık olan insan, sahip olduğu tecrübeleri geçmişten edinir ve bunu gelecek nesillere aktarır. Bunun için de tarih bilimine ihtiyaç duyar. Tarihçiler, farklı dönemlerde tarih hakkında çeşitli tanımlar yapmışlardır. Herodotos(Herodot), İbn Haldun, Ahmet Cevdet Paşa, Halil İnalçık gibi tarihçiler bunlardan birkaçıdır.

**Bu metinde kullanılan düşünceyi geliştirme yolu aşağıdakilerden hangisinde vardır?**

- A) Tarih, toplumların başından geçen olayları zaman ve yer göstererek, sebep-sonuç ilişkisi içerisinde belgelere dayandırarak anlatan sosyal bir bilim dalıdır. Bu bilim, insanların geçmişten ders çıkararak geleceğe yön vermesine yardımcı olur.
- B) Tarih boyunca bazı büyük icatlar, medeniyetlerin kaderini tamamen değiştirmiştir. Tekerleğin bulunması, ulaşımı kolaylaştırarak toplumların ekonomik ve sosyal yapısında önemli değişiklikler yapıp gelişimlerini hızlandırmıştır.
- C) Tarihçi dürüst ve objektif olmak zorundadır. "Tarih yazmak, tarih yapmak kadar mühimdir. Yazan yapana sadık kalmazsa değişmeyen hakikat, insanlığı şaşkırtacak bir mahiyet alır." diyerek Mustafa Kemal Atatürk de bunun önemini ifade etmiştir.
- D) Tarih, geçmişten bugüne süzülen bir fenerdir. Önümüzü aydınlatmak ve karanlıkta yolumuzu kaybetmemek için bu ışığa her zaman ihtiyaç duyarız. Bu ışık yalnızca yolu göstermekle kalmaz, hangi yollardan gitmememiz gerektiğini de bize öğretir.

11. Kültür, dil ve davranışlar yoluyla kuşaktan kuşağa aktarılır.

**Aşağıdakilerden hangisi bu cümlede anlatılan duruma örnek olamaz?**

- A) Bir öğrenci, engelli bireylere yardımcı amaçlayan bir sosyal sorumluluk projesine katılır ve bu süreçte saygı, sabır ve dayanışmanın değerini yaşayarak öğrenir.
  - B) Ailesi Almanya'da yaşayan bir Türk çocuğu evde Türkçe konuşarak büyür, büyüklerinden masallar dinler, hem ana dilini hem de kültürünü öğrenerek geleneklerini sürdürür.
  - C) Bir köydeki gençler, düğünlerde oynanan yöresel halk oyunlarını büyüklerinden izleyerek öğrenir ve bu oyun figürlerini kendi düğünlerinde sergiler.
  - D) Genç bir kadın, anneannesinden öğrendiği el işi tekniklerini hem kendi çocuklarına öğretir hem de sosyal medyada paylaşarak kültürel bir değeri çağın imkânlarıyla yaşatır.
12. Kahramanlar büyüsün masalda dev misali,  
Eğilsin öpsün gökler, canım nazlı hilali...  
Ordularım yeniden Tuna'ya akın etsin!  
Bir Yıldırım çaksın da uzağı yakın etsin!  
İçimde hiç sönmeyen bir fetih sevdası var.  
Yavuz gibi diyorum: Bu dünya insana dar!

**Bu dizelerde aşağıdaki söz sanatlarından hangisi kullanılmamıştır?**

- A) Kişileştirme
- B) Abartma
- C) Tezat
- D) Konuşturma

13. Aşağıdaki görselde rüzgâr türbini ve rüzgâr enerjisi ile ilgili bilgiler gösterilmektedir.

#### Rüzgâr

Rüzgâr, yeryüzüne yakın hava kütlelerinin Güneş ışınlarının etkisiyle ısınarak yükselmesi ve soğuk hava kütlelerinin de yükselen sıcak havanın ayrıldığı yerleri doldurmak üzere hareket etmesiyle oluşur. Rüzgâr türbinleri rüzgârdan elektrik enerjisi elde etmeyi sağlar.

#### Pervane

Rüzgârın etkisiyle dönen üç uzun kanattan oluşur.

#### Gövde

İçinde pervaneye bağlı bir çubuk yani mil, milin dönüş hızını artıran bir dişli kutusu yani şanzıman ve dönüş hareketini elektriğe çeviren bir üreteç bulunur.

#### Üreteç

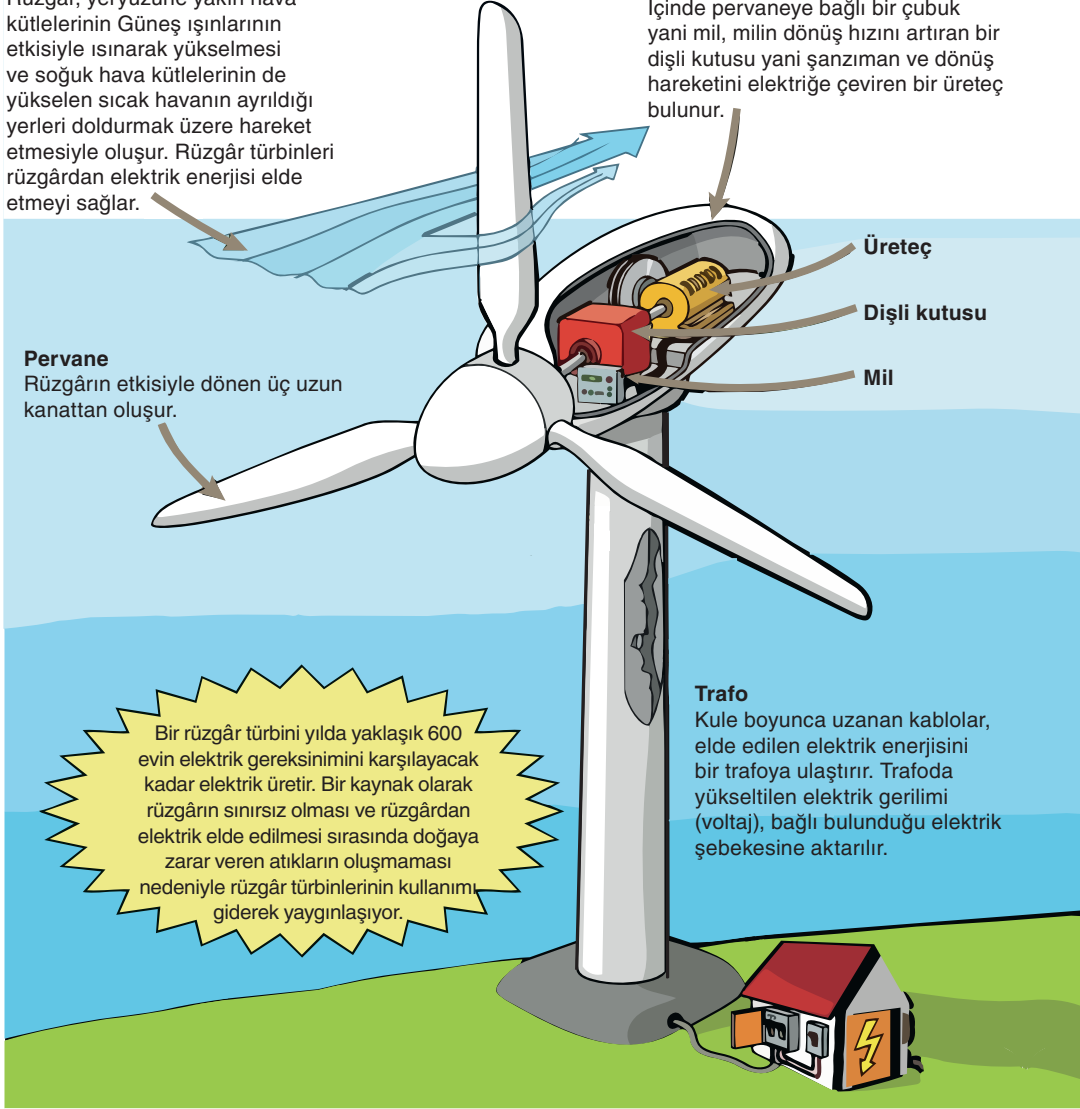
#### Dişli kutusu

#### Mil

Bir rüzgâr türbini yılda yaklaşık 600 evin elektrik gereksinimini karşılayacak kadar elektrik üretir. Bir kaynak olarak rüzgârın sınırsız olması ve rüzgârdan elektrik elde edilmesi sırasında doğaya zarar veren atıkların oluşmaması nedeniyle rüzgâr türbinlerinin kullanımı giderek yaygınlaşıyor.

#### Trafo

Kule boyunca uzanan kablolar, elde edilen elektrik enerjisini bir trafoya ulaştırır. Trafoda yükseltilecek elektrik gerilimi (voltaj), bağlı bulunduğu elektrik şebekesine aktarılır.



Bu bilgilere göre rüzgâr türbini ile ilgili aşağıdakilerden hangisine ulaşamaz?

- A) Kullanımının neden yaygınlaştığı
- B) Gövdesinin içinde nelerin bulunduğu
- C) Sistemin ısı değişimlerinden nasıl etkilendiği
- D) Türbinde üretilen elektriğin nereye aktarıldığı

14. Aşağıda Aydan, Cansu, Kerim, Mert adlı sporcuların kendi aralarında yaptıkları masa tenisi maçları sıralanmıştır:

1. Maç: Mert-Aydan
2. Maç: Aydan-Cansu
3. Maç: Cansu-Mert
4. Maç: Aydan-Kerim
5. Maç: Cansu-Kerim
6. Maç: Kerim-Mert

- 1. maçı kazanan sporcu iki galibiyet almıştır.
- 2. maçı kazanan sporcu diğer maçları kaybetmiştir.
- 3. maçı Cansu, 5. maçı Kerim kazanmıştır.

**Buna göre aşağıdaki tabloların hangisinde sporcuların galibiyet sayıları doğru gösterilmiştir?**

A)

Sporcu	Galibiyet
Aydan	1
Cansu	1
Kerim	2
Mert	2

B)

Sporcu	Galibiyet
Aydan	2
Cansu	1
Kerim	2
Mert	1

C)

Sporcu	Galibiyet
Aydan	1
Cansu	2
Kerim	2
Mert	1

D)

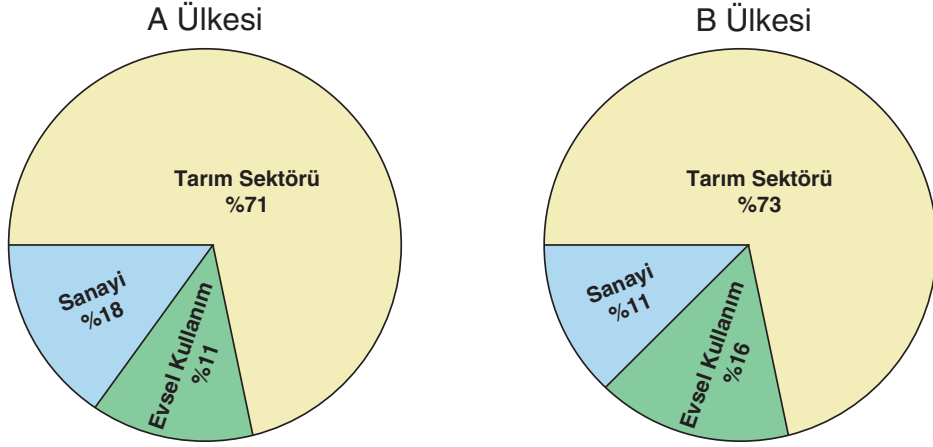
Sporcu	Galibiyet
Aydan	2
Cansu	2
Kerim	1
Mert	1

15. Öykü yazmak baştan sona büyük emek istiyor. Kimi zaman bir şey kendini aniden ortaya çıkarıyor, ben bunu yazmalıyım, diyorum. Ama ondan sonrası çok da kolay olmuyor. Anımsadıklarınız çoğu kez olduğu gibi değil de olmasını istediğiniz gibi kılık değiştiriyor, öyle çıkıyor karşınıza. O zaman öykü asla sizin tasarladığınız gibi yürümüyor. Birtakım yokuşlardan, umutsuz akşamlardan, kayalıkların ardından filan topluyorsunuz başına buyruk kimi sözcükleri.

**Bu metnin türüyle ilgili aşağıdakilerden hangisi doğrudur?**

- A) Gündelik bir konu yazarın özgün üslubu ve kısa cümlelerle verilmiştir.
- B) Kişisel düşünce ve gözlemler kanıtlanma amacı olmaksızın aktarılmıştır.
- C) Halkı derinden etkileyen ve olağanüstü unsurlar barındıran olaylar anlatılmıştır.
- D) Olmuş ya da olabilir nitelikteki bir olay yer ve zaman unsuru kullanılarak işlenmiştir.

16. A ve B ülkelerinin su kullanımının sektörlere göre dağılımını gösteren grafikler aşağıda verilmiştir.



Buna göre aşağıdakilerden hangisine kesinlikle ulaşılabılır?

- A) A ülkesinde tarım sektöründe kullanılan su miktarı, B ülkesinde tarım sektöründe kullanılan su miktarından azdır.
- B) B ülkesinde sanayide kullanılan su miktarı, A ülkesinde sanayide kullanılan su miktarından azdır.
- C) B ülkesinde sanayide kullanılan su miktarı, evlerde kullanılan su miktarından fazladır.
- D) A ülkesinde sanayide kullanılan su miktarı, evlerde kullanılan su miktarından fazladır.

**17. Aşağıdaki cümlelerin hangisinde anlatım bozukluğu vardır?**

- A) Hiç kimse ondan şüphelenmemiş, herkes ona güvenmişti.
- B) Sayın Başkan programa katıldılar ve program başladı.
- C) Yazdığı son makalenin kontrolleri yapıp baskıya gönderildi.
- D) Leylekler göç etmeye başladıysa sonbahar geldi demektir.

**18. Aşağıdaki cümlelerin hangisinde yazım yanlışı yapılmıştır?**

- A) Yeni adliye binasının açılış töreni 2 Eylül'de vali tarafından gerçekleştirildi.
- B) Okulu, Atatürk Caddesi'nin sonundaki yeni binaya geçtiğimiz ayın sonunda taşınmıştı.
- C) İstanbul'a son gelişimizde Boğaz'da uzun bir tekne turu yaparak gezimizi sonlandırdık.
- D) Yağışlı havanın Türkiye'nin doğusuna doğru ilerleyeceği bildirildi.

19. Hayvanlar göç yolculukları sırasında elbette bir harita ya da pusula kullanmaz. Peki ( ) evlerinden kilometrelerce uzaklaşıp nasıl geri dönerler ( ) Bilim insanları hayvanların yollarını bulmak için Güneş ( ) Ay ve yıldızların konumundan yararlanabildiğini belirtiyor. Bununla birlikte hayvanlar ırmak, dağ gibi yeryüzü şekillerini ( ) rüzgâr ve sıcaklık değişimi gibi hava olaylarını kullanabiliyor.

**Bu metinde yay ayraçla ( ) gösterilen yerlere aşağıdaki noktalama işaretlerinden hangisi getirilemez?**

- A) Nokta (.)
- B) Noktalı virgül (;)
- C) Soru işareti (?)
- D) Virgül (,)

20. Kendinizi o işi yaparken düşleyemediğiniz hiçbir şeyi başaramazsınız.

**Bu cümlenin türüyle ilgili aşağıdakilerden hangisi yanlıştır?**

- A) Anlamına göre olumsuz cümledir.
- B) Yapısına göre içinde fiilimsi bulunan cümledir.
- C) Yüklemine yerine göre devrik cümledir.
- D) Yüklemine türüne göre fiil cümlesidir.

1. Almanya ve Osmanlı Devleti arasında 19. yy. sonlarına doğru gelişen temasların karakterini belirleyen güç, büyük ölçüde Alman İmparatorluğu'nun "Dünya Siyaseti" adını verdiği emperyalist siyaset olmuştur. İktisadi ve askerî alanda atılım yapan Alman İmparatorluğu, sömürge elde etmek hırsıyla yeşerttiği emperyalist stratejilerle Orta Doğu'da arzu ettiği yerleri almak niyetindeydi.

**Bu metinde Almanya'nın Osmanlı Devleti'ne yaklaşmasının aşağıdaki nedenlerinden hangisine değinilmiştir?**

- A) Osmanlı Devleti'nin askerî alandaki gücünden faydalanmak istemesi  
B) Almanya'nın siyasi ve ekonomik emellerine ulaşmak istemesi  
C) İngiltere'nin sömürgelerine giden yolları kapatmak istemesi  
D) Halifenin Müslümanlar üzerindeki nüfuzunu kullanmak istemesi

2. Kâzım Karabekir Paşa anlatıyor: "Antlaşma şartlarımızı kabul etmeyen Ermenilere karşı taarruz başlattım. Son darbeden sonra Ermeniler antlaşma şartlarımızı kabul ettiler. Antlaşma şartı olarak 2000 tüfek, 3 batarya, seri ateşli dağ topu ve 40 makineli tüfeği Ermenilerden alarak Doğu Cephesi'nin ilk zafer hediyesi olarak Batı Cephesi'ne gönderdim. Ermenilerin Sevr Antlaşması'ndaki imzalarını geri aldık. Bugünü, bu uğursuz antlaşmanın yırtıldığı gün olarak kutladık."

**Kâzım Karabekir Paşa'nın bu sözlerine göre,**

- I. TBMM, silah ve cephane kazanmıştır.  
II. Kâzım Karabekir Paşa önemli bir zafer elde etmiştir.  
III. İtilaf Devletleri, Sevr Antlaşması'nın geçersizliğini kabul etmiştir.

**yorumlarından hangilerine ulaşılabilir?**

- A) I ve II  
B) I ve III  
C) II ve III  
D) I, II ve III

3. Cumhurbaşkanı Mustafa Kemal, 1926 yılında kendisine karşı düzenlenen başarısız suikast girişimi sonucunda şu açıklamayı yapmıştır: "Ben şahsen intikamdan hoşlanan bir adam değilim. İş mahkemeye aktarılmıştır. Bunun sonucunu beklemek lazımdır. Bu işe karışmaya hakkım yoktur."

**Buna göre Mustafa Kemal aşağıdaki kavramlardan hangisine vurgu yapmıştır?**

- A) Millî egemenliğe  
B) Tam bağımsızlığa  
C) Hukukun üstünlüğüne  
D) Laik devlet yapısına

4. Yunanlar, Sakarya Savaşı'nın sonunda saldırı güçlerini kaybettiler ve savunmaya çekildiler. Böylece Türklerin 1683'te Viyana önlerinden başlayan geri çekilme dönemi de son buldu. 19 Eylül 1921'de TBMM tarafından Başkomutan Mustafa Kemal'e, kanunla "Mareşal" rütbesi ve "Gazi" ünvanı verildi. Sakarya Zaferi'nin dış politikada da çok önemli sonuçları oldu. Kafkas Cumhuriyetleri ile Kars Antlaşması imzalanırken Fransızlarla da Ankara Antlaşması imzalandı.

**Buna göre Sakarya Savaşı'nın sonuçları ile ilgili aşağıdaki yorumlardan hangisi yapılamaz?**

- A) Askerî başarılar siyasi başarıları beraberinde getirmiştir.
- B) Mustafa Kemal, Sakarya Savaşı'nı sevk ve idare etmiştir.
- C) Sakarya Savaşı sonunda Yunanların taarruz gücü kırılmıştır.
- D) İtilaf Devletleri, Yunanları desteklemekten vazgeçmiştir.

5. Osmanlı Devleti'nde kılık kıyafet konusunda birlik yoktu. Devletin çok uluslu ve zengin kültürel yapısı nedeniyle insanlar mensup oldukları dine, millete, mesleklerine, şehirli veya köylü oluşlarına göre kıyafet giymekteydiler. Kıyafet konusundaki bu farklılıklar toplumda kargaşaya neden olmaktaydı. Bu soruna cumhuriyet döneminde yapılan kılık kıyafet yeniliği ile çözüm bulunmaya çalışılmıştır.

**Buna göre yapılan yenilik aşağıdaki alanlardan hangisi ile ilgilidir?**

- A) Toplumsal                      B) Ekonomi
- C) Eğitim                              D) Sağlık

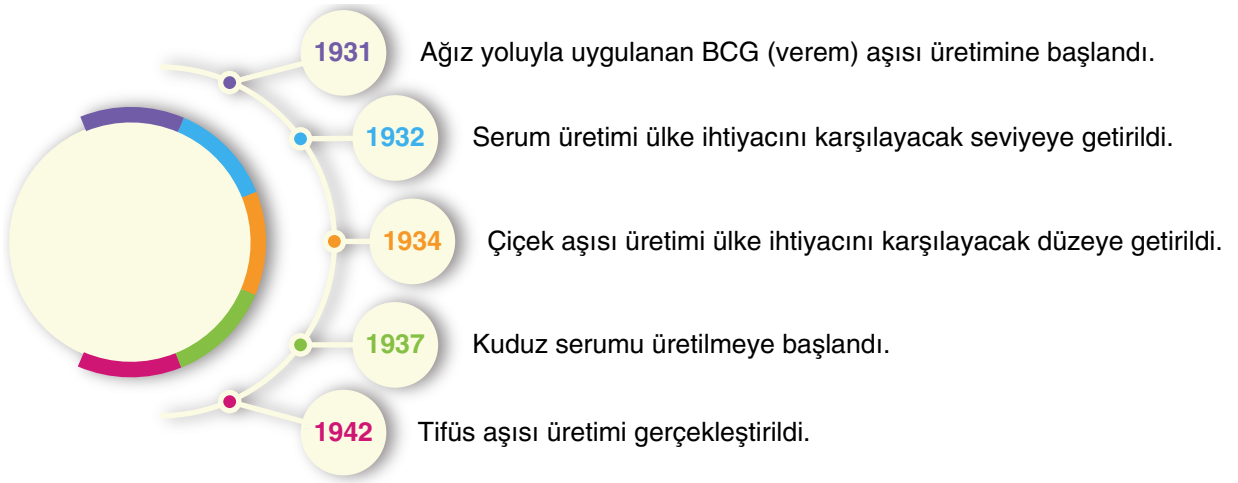
6. Türkiye İktisat Kongresi'nde alınan kararlardan bazıları şunlardır:

- Ham maddesi yurt içinde bulunan sanayi dalları kurulmalıdır.
- Türk vatandaşları yerli malı kullanımına teşvik edilmelidir.
- Madenler ülkenin millî çıkarları doğrultusunda işletilmelidir.
- Sanayi teşvik edilmeli ve millî bankalar kurulmalıdır.

**Buna göre Türkiye İktisat Kongresi'nin temel amacı aşağıdakilerden hangisidir?**

- A) Madencilik alanında hızlı bir şekilde gelişmek
- B) Millî ve bağımsız bir ekonomi oluşturmak
- C) Bankacılık sistemini özel sektöre devretmek
- D) Yurt dışından ham madde ithalatını yasaklamak

7. Cumhuriyetin ilk yıllarında sağlık alanında yaşanan gelişmeler aşağıdaki diyagramda gösterilmiştir.



Buna göre aşağıdakilerden hangisi yapılan çalışmaların amaçlarından değildir?

- A) Salgın hastalıkların önüne geçmek
- B) Millî bir sağlık sistemi oluşturmak
- C) Halk sağlığını koruyucu tedbirler almak
- D) Tıbbi malzemelerin dış satımını artırmak
8. Cumhuriyetin ilanından sonra ülkemizde gerçekleştirilen inkılaplar birtakım çevrelerde tepkilere neden olmuştur. Türkiye Cumhuriyeti'nin ülkesi ve milletiyle bölünmez bütünlüğünü bozmak isteyen hareket ve tehditler daha çok etnik ve dinsel kaynakları kullanarak ortaya çıkmıştır. Bu tehditler; cumhuriyete, laikliğe, inkılaplara ve ülkenin bölünmez bütünlüğüne karşı yapılmış hareketlerdir. Bu tehditlerin demokratik hayatı olumsuz etkileyen iç politika sonuçları olduğu gibi ülkemizi uluslararası alanda zor durumda bırakan dış politika sonuçları da olmuştur.

Metne göre aşağıdaki yorumlardan hangisi yanlıştır?

- A) Halk arasında inkılaplara karşı olan bir kitle bulunmaktadır.
- B) Yurt içinde gerçekleşen bir gelişme dış siyasete de etki etmiştir.
- C) Tehditlerin hedefinde halk yönetimi ve yenilikler vardır.
- D) Yeniliklere yönelik tehditler çoğunlukla dış kaynaklı olmuştur.

9. Aşağıdaki tabloda azınlıkların kurduğu cemiyetlerle ilgili bilgiler verilmiştir.

Azınlıkların Kurduğu Cemiyetler		
Adı	Amacı	Faaliyet Gösterdiği Yer
Mavri Mira Cemiyeti	<ul style="list-style-type: none"> <li>İstanbul başta olmak üzere Trakya ve Batı Anadolu'nun Yunanistan tarafından işgal edilmesini kolaylaştırmak</li> <li>Bu amacı gerçekleştirmek için Rumlardan oluşan çeteler kurup Türk halkını göçe zorlayarak Batı Anadolu'nun Yunanlar tarafından işgaline destek vermek</li> </ul>	İstanbul merkezli kurulmuştur. Batı Anadolu ve Trakya'da faaliyet göstermiştir.
Pontus Rum Cemiyeti	<ul style="list-style-type: none"> <li>Karadeniz'in doğusundaki Osmanlı topraklarında Pontus Rum Devleti'ni yeniden kurmak ve Türkleri göç ettirerek bölgeden uzaklaştırmak</li> </ul>	Samsun merkezli kurulmuştur. Karadeniz'in doğusunda faaliyet göstermiştir.
Hınçak ve Taşnak Cemiyeti	<ul style="list-style-type: none"> <li>Anadolu'nun doğusundaki Osmanlı topraklarında bir Ermeni devleti kurmak</li> <li>Bu amaçla bölgede silahlı çeteler oluşturarak Türkleri bölgeden göç etmeye zorlamak</li> </ul>	Erzurum ve Anadolu'nun doğusunda faaliyet göstermiştir.

Buna göre tablo ile ilgili aşağıdaki yorumlardan hangisi yanlıştır?

- A) Osmanlı Devleti'nin toprak bütünlüğünü parçalamak istemişlerdir.  
 B) Anadolu'nun farklı yerlerinde faaliyet göstermişlerdir.  
 C) İtilaf Devletleri'nden silah ve cephane desteği almışlardır.  
 D) Kuruldukları bölgelerde nüfus üstünlüğünü ele geçirmek istemişlerdir.

10. Atatürk, Terakkiperver Cumhuriyet Fırkası'nın kurulmasını hoşgörü ile karşılıyor, Batılı ülkelerin parlamentolarını örnek gösteriyor ve çok partili rejimin gerekliliğini anlatıyordu. Bu konuda "Biz meclisimizde tek parti ile baskıcı bir yönetim izlenimi vermekteyiz. Bize bakan Batılılar, bu memleketteki idare tarzı için tek parti egemenliğidir derler. Bizim meclisimizde de iki parti olmalı, hükûmeti denetleme sistemi kurulmalı ve medeni ülkelerin parlamentolarına benzemeliyiz." demekteydi.

Buna göre aşağıdakilerden hangisi Atatürk'ün çok partili sisteme geçişi desteklemesinin gerekçelerinden biri değildir?

- A) Meclis hükûmeti sisteminin işleyişini hızlandırmak  
 B) Hükûmetin ve yapılan işlerin denetlenmesini sağlamak  
 C) Yabancı devletlerin gözünde Türk devletinin saygınlığını artırmak  
 D) Çağdaş ülkelerde bulunan çok partili sisteme geçmek

1. Bu testte Din Kültürü ve Ahlak Bilgisi alanına ait 10 soru bulunmaktadır.

2. Cevaplarınızı cevap kâğıdında Din Kültürü ve Ahlak Bilgisi testi için ayrılan kısma işaretleyiniz.

1. I. Milyonlarca bitki türünün her biri kendine uygun iklimde yetişir.  
II. İnsanların sorumluluklarını yerine getirmesi sosyal düzeni sağlar.  
III. Bilim insanları doğadan ilham alarak teknolojik araç ve gereçler üretir.

**Numaralandırılmış cümleler aşağıdaki yasalardan hangisine aittir?**

	<u>I</u>	<u>II</u>	<u>III</u>
A)	Biyolojik	Fiziksel	Toplumsal
B)	Biyolojik	Toplumsal	Fiziksel
C)	Fiziksel	Toplumsal	Biyolojik
D)	Toplumsal	Fiziksel	Biyolojik

2. Ayşe proje ödevi için zekât konusunda bir sunum hazırlayacaktı. Öncesinde konuyla ilgili araştırma yaptı ve arkadaşlarına anlatmak için şu maddeleri belirledi:

- I. Zekât; akıllı, ergenlik çağına gelmiş ve belli bir mal varlığına sahip olan her zengin Müslüman'ın sorumluluğudur.  
II. Geliri az olan kimseler de imkânları ölçüsünde zekât vermelidir.  
III. Zekât sözlükte temizlenme ve bereket anlamına gelir.  
IV. Zekât verebilmek için malın üzerinden belli bir zaman geçme şartı yoktur.

**Buna göre numaralanmış cümlelerden hangileri doğrudur?**

- A) I ve II  
B) I ve III  
C) II ve IV  
D) III ve IV

3. **Aşağıdaki ayetlerden hangisi “malın korunması” ilkesiyle ilgilidir?**

- A) “... kim bir kimseyi öldürürse bütün insanları öldürmüş gibi olur. Kim de bir can kurtarırsa bütün insanların hayatını kurtarmış gibi olur...” (Maide suresi 32. ayet)  
B) “Haklı bir sebep olmadıkça Allah'ın dokunulmaz kıldığı cana kıymayın...” (İsra suresi 33. ayet)  
C) “Fakirlik korkusuyla çocuklarınızın canına kıymayın!...” (İsra suresi 31. ayet)  
D) “... yiyeğin için fakat israf etmeyin. Çünkü Allah israf edenleri sevmez.” (Araf suresi 31. ayet)

4. Hz. Yusuf, Mısır hükümdarının gördüğü rüyayı yorumlayarak yedi yıl sürecek bir bolluk döneminin ardından yedi yıl sürecek bir kıtlık yaşanacağını öngörmüştür. Hükümdar tarafından görevlendirilen Hz. Yusuf, bolluk zamanında elde edilen ürünleri depolamış ve kıtlık döneminde halkın açlıkla karşı karşıya kalmasını önlemiştir.

**Bu metinde sözü edilen durum aşağıdaki ayet ve hadislerden hangisiyle doğrudan ilişkilidir?**

- A) “Önce deveni bağla, sonra Allah'a tevekkül et!” (Hadisişerif)  
B) “Allah'a güven; güvenip dayanmak için Allah yeter.” (Ahzab suresi 3. ayet)  
C) “Şüphesiz rızık veren, sarsılmaz gücün sahibi olan yalnızca Allah'tır.” (Zariyat suresi 58. ayet)  
D) “Yaşadığınız sürece rızık konusunda ümitsizliğe düşmeyin...” (Hadisişerif)

5. Kureyş kabilesi, Kâbe'nin hizmetinden sorumlu olmaları ve ticaret yollarındaki ayrıcalıklı konumları sebebiyle Arap kabileleri arasında ciddi bir saygınlık kazanmıştı. Bu konumları sayesinde elde ettikleri güvenlik ve refah, onları zamanla kendilerini üstün görmeye ve nimetlerin kaynağını unutmaya sevk etti. Kureyş suresi, bu durum karşısında onlara asıl sorumluluklarının nimetleri veren Yüce Allah'a kulluk olduğunu hatırlatmıştır.

**Bu metne göre Kureyş suresinde asıl anlatılmak istenen aşağıdakilerden hangisidir?**

- A) Allah, dünya hayatında insanlara farklı nimetler vermiştir.
- B) Arap kabileleri arasındaki üstünlük sebeplerinden biri Kâbe'ye hizmettir.
- C) Toplumda saygınlık kazanan kişilere aynı zamanda liderlik sorumluluğu yüklendiğini bildirmektedir.
- D) İnsan, her şartta Allah'ın verdiği nimetlerin farkında olup kulluk görevini yerine getirmelidir.
6. "Allah'ın rahmeti sayesinde sen onlara karşı yumuşak davrandın. Eğer kaba, katı yürekli olsaydın, onlar senin etrafından dağılıp giderlerdi. Artık sen onları affet. Onlar için Allah'tan bağışlama dile..."  
(Al-i İmran suresi 159. ayet)

**Bu ayette aşağıdakilerden hangisi vurgulanmaktadır?**

- A) Anlayışlı davranmak insanlar üzerinde daha etkilidir.
- B) Doğru ve anlaşılır öğüt vermek insanlar üzerinde etkilidir.
- C) Şefkatli ve anlayışlı olmak insanları bir arada tutar.
- D) Bir konuda karar alınırken istişare yapılmalıdır.

7. I. Din farkı gözetmeden suçlu hakkında aynı hükmü uygulaması  
II. Gençliğinde Hilfülfudul adlı topluluğa katılması  
III. Aile ve akrabalarına karşı merhametli olması  
IV. Mekke'nin fethinde kendisine kötülük edenleri affetmeyi tercih etmesi

**Numaralanmış ifadelerden hangileri**

**Hz. Muhammed'in (sav) "adaleti gözetmedeki hassasiyeti"ne örnek gösterilebilir?**

- A) I ve II  
B) I ve IV  
C) II ve III  
D) III ve IV

8. Hz. Muhammed (sav), insanların sosyal statülerine göre değerlendirildiği, köleliğin yaygın olduğu ve kadınların hak ettiği değeri görmediği bir toplumda yaşamıştı. Ancak o, herkesin eşit ve onurlu bir yaşam sürmesini savunmuş, kadınların haklarını korumuş, kölelerin özgürlüğünü teşvik etmiştir.

**Bu parçaya göre,**

- I. Kölelik sistemi toplumda sıklıkla karşılaşılan bir uygulama olmuştur.
- II. Toplumsal adaletin sağlanması için önemli adımlar atılmıştır.
- III. Haksız kazancın önlenmesi yönünde mücadele edilmiştir.

**İfadelerinden hangilerine ulaşamaz?**

- A) Yalnız I                      B) Yalnız III  
C) I ve II                        D) II ve III

9. “Doğruluktan ayrılmayın. Çünkü doğruluk insanı iyiliğe, iyilik de cennete götürür. Kişi devamlı doğru söyler ve doğruluktan ayrılmazsa Allah katında ‘doğru’ olarak tescillenir. Yalandan sakının! Çünkü yalan insanı kötülüğe, kötülük de cehenneme götürür. Kişi devamlı yalan söyler, yalan peşinde koşarsa Allah katında ‘yalancı’ olarak tescillenir.”

(Hadisîşerif)

**Bu hadisten çıkarılabilecek en kapsamlı yargı aşağıdakilerden hangisidir?**

- A) Kötü davranışlarda bulunan insanlar sonunda hak ettiğini bulur.  
B) Yalan söyleyen kişi, Allah katında buna göre değerlendirilir.  
C) Hakikatten sapmak bireyi kötü işlere sürükler.  
D) Kişinin davranışları ahlakını ve ahiretini etkiler.

10. • “... İnsanlara, kendilerine indirileni açıklaman ve onların da üzerinde düşünmeleri için sana bu Kur’an’ı indirdik.” (Nahl suresi 44. ayet)  
• “... Benim nasıl namaz kıldığımı gördüyseniz siz de öyle namaz kılın...” (Hadisîşerif)

**Bu ayet ve hadis birlikte değerlendirildiğinde aşağıdakilerden hangisine ulaşılabilir?**

- A) Hz. Muhammed’in (sav) asıl hedefi insanlara ahlaki konularda örnek olmaktır.  
B) Kur’an’ın korunmuşluğu sünnetin açıklayıcı rolünü gereksiz kılar.  
C) Kur’an ve sünnet bir bütün olarak dinin yaşanmasını sağlar.  
D) İbadetleri uygulamak için Kur’an ayetleri yeterlidir.

1. The teacher asked the students a question. Below are the students' answers.

**Ted** : I have to take the garbage out every day.

**Robin** : I'm in charge of setting the table every evening.

**Barney** : I must make my bed and tidy up my room in the mornings.

**According to the answers above, which of the following questions did the teacher ask?**

- A) What do you do after school?  
B) What are your favourite chores?  
C) What do you do in your free time?  
D) What are your responsibilities at home?
2. Linda and Tracy are talking on the phone.

**Linda** : Hi, Tracy. My grandparents are coming this weekend, but I'm too busy these days. Can you come over on Friday afternoon and help me with the chores, please?

**Tracy** : I'm always here to help you. What can I do for you?

**Linda** : I'll cook the meal and dust the furniture. How about vacuuming and mopping the floor?

**Tracy** : Sure. Sounds easy! Do you need anything from the supermarket?

**Linda** : Yeah. Can you buy some bread and beverages before you come?

**Tracy** : Of course. See you!

**Linda** : Bye.

**According to the conversation above, which of the following is correct?**

- A) Tracy is going to do the shopping first.  
B) Linda is going to vacuum the floor.  
C) Linda is going to visit her grandparents.  
D) Tracy and Linda are going to cook together.

3. Ali shared a post on his blog.



Hello friends!

My sister and I had a great time in Japan last week! First, we were in Tokyo. It is a big, modern and crowded city. There are many skyscrapers. We watched the sunset from one of them. Next, we went to Kyoto to see the traditional Japanese architecture. Kyoto is a fascinating city with many ancient buildings. Where should we go next?

**According to the text, which of the following is correct?**

- A) It was a dull holiday for them.  
B) Kyoto is more historical than Tokyo.  
C) They have visited only one city in Japan.  
D) They enjoyed watching the sunset in Kyoto.

4. Four friends are sharing their opinions about outdoor activities.



Berat

To me, risky activities are more exciting and I always look for challenging adventures. Next week, I will try base jumping. I can't wait!



Gizem

I always try new extreme sports and push my limits. I think life without adventure is boring, so I try a new extreme sport every year. I will try ice climbing this year!



Okan

I think sports and outdoor activities should be safe and help people feel peaceful. So, I really enjoy hiking and camping in the forest.



Zehra

I have always wanted to fly like a bird. So, paragliding, skydiving and hang gliding are my favourite extreme sports. People say air sports are dangerous but I don't agree.

**According to the opinions above, who is NOT an adrenaline seeker?**

A) Berat

B) Gizem

C) Okan

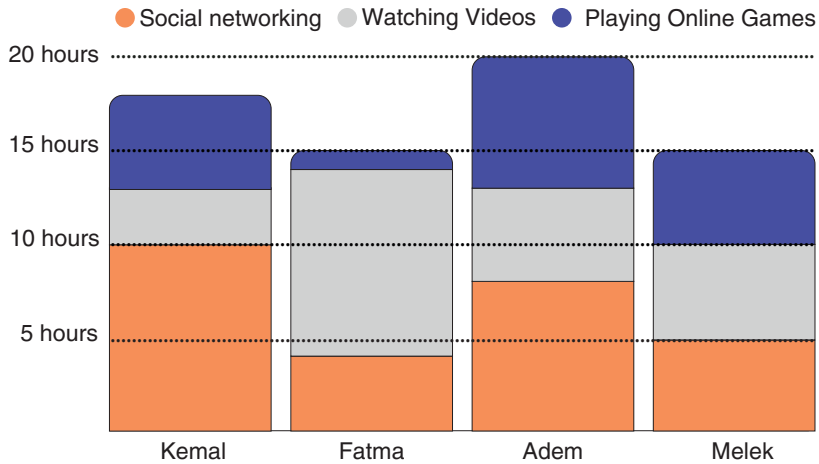
D) Zehra

5. Amanda fills in a questionnaire about eating habits on the Internet. Here are her answers.

How often do you...	Always	Often	Rarely	Never
have breakfast?	✓			
eat desserts and sweets?			✓	
eat snacks or fast food?				✓
eat fruit and vegetables?		✓		
drink fizzy drinks?			✓	

According to Amanda's answers above, which of the following statements matches Amanda's eating habits?

- A) Don't skip breakfast! Choose healthy food and a healthy life.  
 B) Well done! You have very healthy eating habits. Go on like this.  
 C) Stop eating so much junk food! Otherwise, it'll harm your health.  
 D) If you don't want to be ill, you should change your eating habits.
6. Erdem prepares a chart for his IT homework. It shows how many hours a week his friends spend on the Internet for social networking, watching videos, and playing games. He presents the results in the chart below.



According to the chart above, which of the following is NOT correct?

- A) Melek spends five hours on each of the activities a week.  
 B) Kemal uses social networking sites more than Melek does.  
 C) Adem spends more time on online games than the others do.  
 D) Fatma and Melek spend the same amount of time watching videos.

7. Gwen is going to give a barbecue party. She is talking to her brother Brad about who to invite.

**Gwen** : I think we must invite our cousin Frank.

**Brad** : Definitely! Frank always tells funny jokes.

**Gwen** : Shall we invite Emily from the chess club?

**Brad** : No way! Last week, she promised to meet me after school but she broke her promise.

**Gwen** : I see. Let's not invite her, then. What about our neighbour David?

**Brad** : David? He only thinks about himself and never helps anyone.

**Gwen** : OK. I won't invite David. What do you think about Pamela?

**Brad** : I like Pamela. She cares about her friends. We must invite her.

**According to the conversation above, who is unreliable?**

- A) Frank
- B) Emily
- C) David
- D) Pamela

8. Ayşe is hungry and asks her friends if they have something salty to eat. Here are her friends' offers.

**Serra** : I have a package of chips. I can open it right now.

**Judy** : I have some candies with mint, lemon and strawberry flavours.

**Luke** : I have two slices of pizza in my lunchbox. I can share them with you.

**Metin** : I have two cupcakes. One is with cherry and the other is with chocolate.

**According to the information above, whose offers match Ayşe's preference?**

- A) Serra and Luke
- B) Judy and Metin
- C) Serra and Judy
- D) Metin and Luke

9. **Caller** : Hello, may I speak to Tom, please?  
**Receiver** : Hi, who is calling?  
**Caller** : ---- (I)  
**Receiver** : ---- (II)  
**Caller** : No, thank you. I'll call back later.  
**Receiver** : Alright, bye.

Which of the following completes the phone conversation above?

I

II

- A) Hold on a minute. He isn't available right now.  
B) It's Martin. Hold on a second. I'll get him.  
C) This is Martin. He's out. Can I take your message?  
D) Hang on, please. Martin speaking. How may I help you?

10.



**Cheer Island Resort Hotel**

If you want to swim, sunbathe and relax,  
Cheer Island Resort Hotel is your destination.

Enjoy the all-inclusive hotel experience with us.

Take our luxurious boats to reach our hotel.

For prices, call 0123 45 6789

Which of the following questions does NOT have an answer in the brochure above?

- A) How much is a one-week holiday?  
B) What type of hotel is it?  
C) How can I get to your hotel?  
D) Which activities can I do there?



**TEMEL EĞİTİM  
GENEL MÜDÜRLÜĞÜ**



**LGS DENEMELERİ  
7. DENEME SÖZEL BÖLÜM  
CEVAP ANAHTARI**

**TÜRKÇE**

1. C
2. C
3. D
4. D
5. C
6. B
7. B
8. B
9. C
10. B
11. A
12. D
13. C
14. A
15. B
16. D
17. C
18. A
19. A
20. C

**T.C. İNKILAP TARİHİ VE  
ATATÜRKÇÜLÜK**

1. B
2. A
3. C
4. D
5. A
6. B
7. D
8. D
9. C
10. A

**DİN KÜLTÜRÜ VE  
AHLAK BİLGİSİ**

1. B
2. B
3. D
4. A
5. D
6. C
7. A
8. B
9. D
10. C

**YABANCI DİL  
(İNGİLİZCE)**

1. D
2. A
3. B
4. C
5. B
6. D
7. B
8. A
9. C
10. A