

1. Meridyenlerin özellikleri ile ilgili aşağıdaki bilgilerden hangisi yanlıştır?

- A) Ardışık iki meridyen arasındaki zaman farkı 4 dakikadır.
B) Bütün meridyenler bir kutupta başlayıp diğer kutupta biter.
C) Meridyenler Ekvator'u ve paralelleri dik keser.
D) Meridyenlerin boyları farklı uzunluktadır.

2. Haritalar üzerinde sağdan sola, yukarıdan aşağıya uzanan çizgiler vardır. Bu çizgiler dünya üzerindeki bir yerin coğrafi konumunu belirlerken bize yardımcı olur. Bu çizgilerden kuzey- güney doğrultusunda uzananlara paralel denir.

Aşağıdakilerden hangisi paralellerin özelliklerinden biri değildir?

- A) Bütün paralellerin çevre uzunlukları birbirine eşittir.
B) Dünyanın şeklinden dolayı boyları kutuplara doğru gidildikçe küçülür.
C) Başlangıç paraleli Ekvator'dur.
D) Doksan kuzeyde, doksan güneyde olmak üzere 180 paralel vardır.

3. Bütün topraklarının Güney Yarım Küre'de yer aldığı, Afrika ve Okyanusya kıtalarının güneyinde bulunan ve Kutup İklimi'nin hakim olduğu kıta aşağıdakilerden hangisidir?

- A) Okyanusya
B) Kuzey Amerika
C) Antarktika
D) Güney Amerika

4. Türkiye 36-42 Kuzey Paralelleri; 26- 45 Doğu Meridyenleri arasında yer alır.

Verilen bilgiden hareketle aşağıdakilerden hangisine ulaşamaz?

- A) Başlangıç Meridyeni'nin batısında yer alır.
B) Türkiye, Kuzey Yarım Küre'de yer almaktadır.
C) En doğu ve en batısı arasında 76 dakikalık zaman farkı vardır.
D) En kuzeyi ve en güneyi arasından 6 paralel geçmektedir.

5. Aşağıda verilenlerden hangisi Güney Yarımkürede yer almaz?

- A) Avrupa
B) Okyanusya
C) Antarktika
D) Güney Okyanus

6. Kutup noktalarından eşit uzaklıkta olan ve Dünyayı iki eşit parçaya ayıran daireye denir.

Yukarıdaki boşluğa aşağıdaki kavramlardan hangisi getirilmelidir?

- A) Meridyen
B) Paralel
C) Geoid
D) Ekvator

7. Türkiye 36- 42 kuzey paralelleri ile 26-45 doğu meridyenleri arasında yer aldığına göre ülkemizin en kuzeyi ile en güneyi arasında kaç kilometrelik uzaklık vardır?

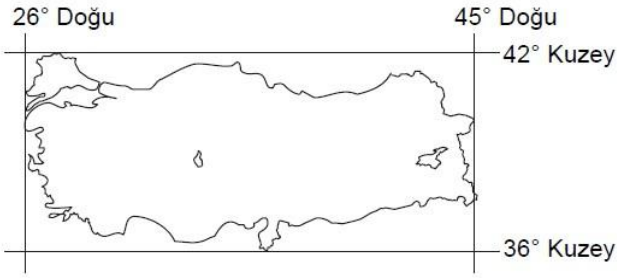
- A) 60 km
B) 660 km
C) 666 km
D) 6660 km

8. Dünya üzerindeki bir yerin; önemli denizlere, yeraltı kaynaklarına ,komşularına, önemli kanal ve geçitlere göre konumu ve sahip olduğu yeryüzü şekilleri göreceli konumunu ifade eder.

Buna göre aşağıdakilerden hangisi Türkiye'nin göreceli konum sonuçları arasında gösterilemez?

- A) İstanbul ve Çanakkale Boğazlarına sahip olması
B) Ekvator dairesinin kuzeyinde yer alması
C) Batıdan doğuya doğru yükseltisinin artması
D) Üç tarafı denizlerle çevrili yarımada olması

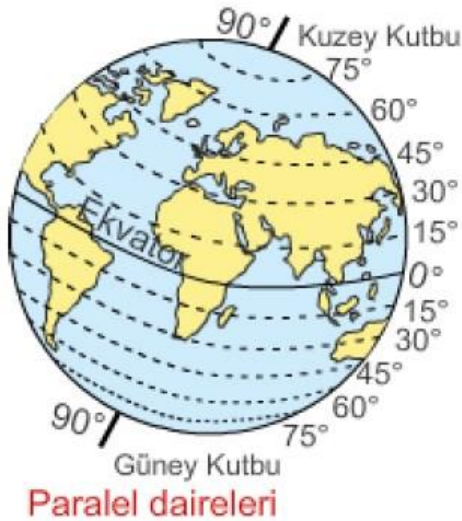
9.



Coğrafi koordinatları verilen bu Türkiye haritasının kuzeydoğu ucunun koordinatları aşağıdakilerden hangisinde doğru olarak verilmiştir?

- A) 36° kuzey paraleli - 26° doğu meridyeni
- B) 42° kuzey paraleli - 26° doğu meridyeni
- C) 42° kuzey paraleli - 45° doğu meridyeni
- D) 36° kuzey paraleli - 45° doğu meridyeni

10.



Ekvator'a paralel olarak 1°lik açı aralıklarıyla çizildiği varsayılan çizgilere paralel denir.

Aşağıdakilerden hangisi bu paralel dairelerinin özelliklerinden biri değildir?

- A) Ekvator'un kuzeyinde 90, güneyinde 90 toplam 180 tanedir.
- B) Dünya'nın şeklinden dolayı boyları Ekvator'dan kutuplara doğru kısalır.
- C) Dereceleri, Ekvatordan kutuplara doğru gidildikçe artış gösterir.
- D) Kutup noktalarına doğru aralarındaki uzaklık azalır.

11. Türkiye'nin coğrafi konumu ile ilgili olarak aşağıda verilen bilgilerden hangisi doğrudur?

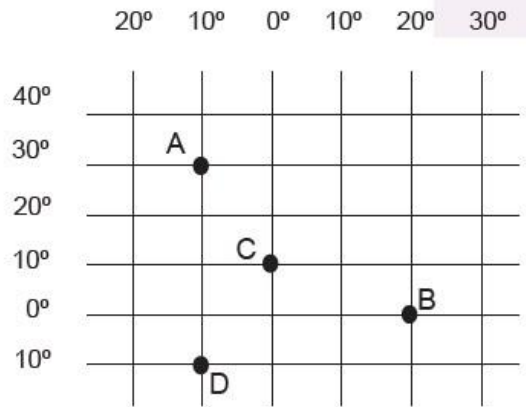
- A) Türkiye topraklarının büyük bir kısmı Avrupa kıtasındadır.
- B) Türkiye, Asya ile Amerika kıtaları arasında köprü vazifesi görmektedir.
- C) Türkiye bir ada ülkesidir.
- D) Türkiye, Asya kıtasının batısında Avrupa kıtasının doğusunda yer alır.

12. Türkiye 36° - 42° kuzey paralelleri arasında yer alır.

Bu bilgilerden hareketle Türkiye'nin konumu ile ilgili hangisi söylenemez?

- A) Türkiye Kuzey Yarım Küre'de yer alır.
- B) Türkiye'nin en kuzeyinde 42° kuzey paraleli bulunur.
- C) Türkiye'nin en güneyinde 36° kuzey paraleli bulunur.
- D) Türkiye Güney Kutup Noktası'na, Kuzey Kutup Noktası'ndan daha yakındır.

13.



Koordinat düzleminde A, B, C ve D olarak belirtilen bölgelerle ilgili yapılan yorumlardan hangisi doğrudur?

- A) "D" bölgesi başlangıç meridyeninin doğusunda yer alır.
- B) "B" ve "C" bölgeleri arasında 70 dakika zaman farkı vardır.
- C) "B" bölgesi Ekvator çizgisinin güneyinde yer alır.
- D) "A" bölgesi Kuzey Yarım Küre'de yer alır.

CEVAP ANAHTARI

| | | | | | | | | | |
|-----------|-----------|-----------|----------|----------|----------|----------|----------|----------|-----------|
| 1 | 2 | 3 | 4 | 5 | 6 | 7 | 8 | 9 | 10 |
| D | A | C | A | A | D | C | B | C | D |
| 11 | 12 | 13 | | | | | | | |
| D | D | D | | | | | | | |

Soruların bir kısmı EBA'dan derlenmiş, bir kısmı tarafımca oluşturulmuştur.