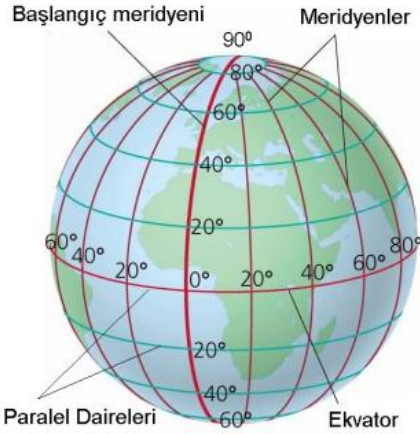


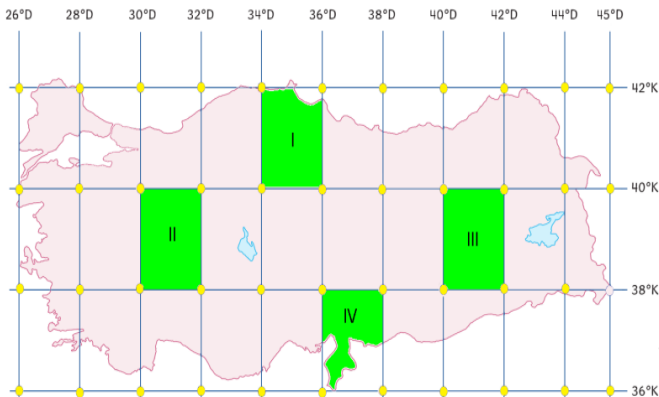
1.



**Görseldeki bilgilere göre, paralel ve meridyenlerle ilgili aşağıdaki yargılardan hangisine ulaşamaz?**

- A) Farklı derecelerde bulunan paralellerin uzunlukları birbirlerinden farklıdır.  
 B) Bir paralel dairesiyle bir meridyen dairesinin uzunlukları eşittir.  
 C) Ekvator'dan kutuplara doğru meridyenler arasındaki mesafe daralmaktadır.  
 D) Ekvator ve Başlangıç Meridyeni Dünya'yı iki farklı yarım küreye bölmektedir.

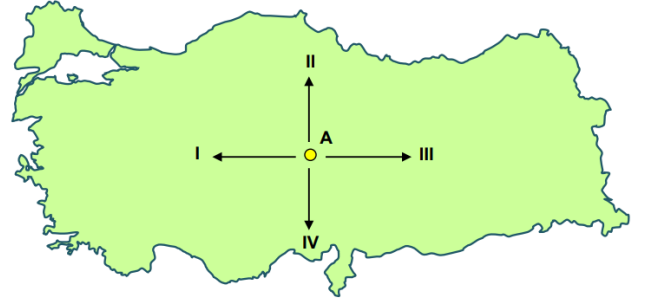
2. İzcilik faaliyetlerinde bulunan bir grup öğrenci 39 derece Kuzey paraleli ile 41 derece Doğu meridyenin kesiştiği yerleşim yerine gitmiş ve burada kamp kurmuşlardır.



**Buna göre öğrenciler haritada numaralandırılmış alanların hangisinde kamp kurmuşlardır?**

- A) I B) II C) III D) IV

3. Aşağıdaki Türkiye haritasında, A merkezinden hareket edecek yolcu uçağı için 4 farklı rota görünmektedir.



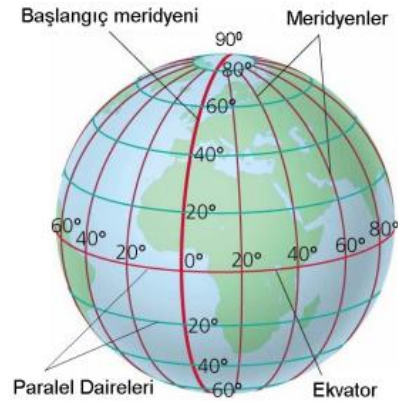
A merkezinden hareket eden uçağın seyahati boyunca;

- Paralellerin dereceleri küçülmüş,
- Meridyenler arasındaki uzaklık artmış,
- Sıcaklık yükselmiştir.

**Buna göre, yolcu uçağı haritada numaralandırılarak verilen hangi ok yönünde seyahat etmiştir?**

- A) I B) II C) III D) IV

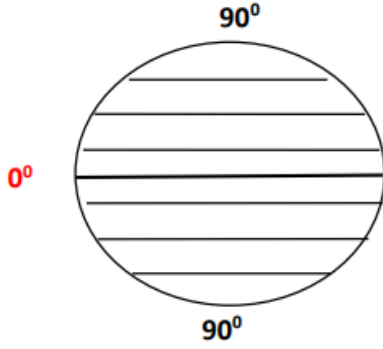
4. Aşağıdaki şekilde paralel ve meridyenler görülmektedir.



**Verilen şekle bakılarak paralel ve meridyenler ile ilgili aşağıdakilerden hangisine ulaşamaz?**

- A) Meridyenlerin boylarının kutuplara doğru küçüldüğüne  
 B) Paralellerin, Ekvator'a paralel olarak uzandıklarına  
 C) Paralellerin boylarının kutuplara doğru küçüldüğüne  
 D) Meridyenlerin kutup noktalarında birleştiğine

5.




- Ekvator'a paralel ve birer derece aralıklarla çizilen dairelerdir.
- Ekvator'un kuzeyinde 90, güneyinde 90 olmak üzere toplam 180 tane vardır.
- Aralarındaki mesafe eşit olup Dünya'nın her yerinde 111 km'dir.

**Verilen görsel ve bilgilerde aşağıdakilerden hangisi ile ilgili bilgi verilmiştir?**

- A) Paralellerle  
B) Meridyenlerle  
C) Ekvatorla  
D) Dünyanın şekliyle

6. Paralellerin boyları Ekvator'dan kutuplara doğru kısalır. İki meridyen arası mesafe Ekvator'da 111 km'dir. Kutuplara doğru gidildikçe bu mesafe azalır.

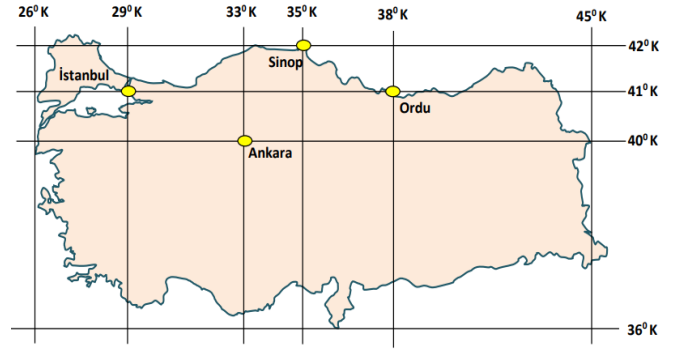


Uçaklar aynı yükseltide, aynı hava şartlarında ve eşit hızda seyahat etmektedir.

**Verilen bilgilere göre aynı meridyen üzerinden hareket eden uçaklardan hangisi Dünya etrafındaki turunu daha erken tamamlar?**

- A) I B) II C) III D) IV

7.



Yukarıdaki haritada Türkiye'deki bazı şehirlerin matematik konumları verilmiştir.

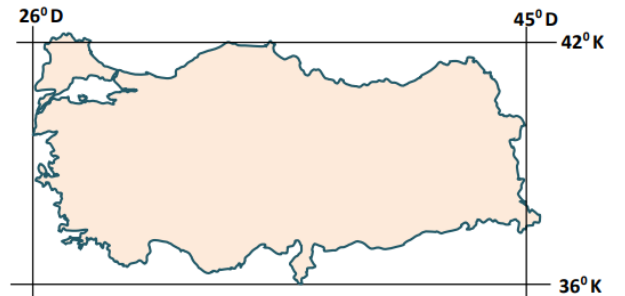
**Verilen görseldeki şehirlerimiz ile ilgili olarak;**

- Ordu Ekvator'a en yakın olan ildir.
- Sinop Kuzey Kutup Noktası'na en yakın olan ildir.
- İstanbul Başlangıç Meridyeni'ne en yakın olan ildir.
- Ankara Güney Kutup Noktası'na en uzak olan ildir.

**yargılarından hangileri doğrudur?**

- A) I ve II B) II ve III  
C) I ve IV D) III ve IV

8. Aşağıdaki haritada Türkiye'nin matematik konumu verilmiştir.



**Türkiye'nin matematik konumu ile ilgili olarak;**

- Kuzey Yarım Küre'de yer aldığı,
- Greenwich'in doğusunda yer aldığı,
- En doğusu ile en batısı arasında 19 meridyen farkının olduğu

**ifadelerinden hangilerine ulaşılabilir?**

- A) I ve II B) I ve III  
C) II ve III D) I, II ve III

9. Aşağıda Türkiye'nin Dünya üzerindeki konumu ile ilgili görsel verilmiştir



**Buna göre Türkiye'nin Dünya üzerindeki konumuyla ilgili olarak aşağıdakilerden hangisi söylenemez?**

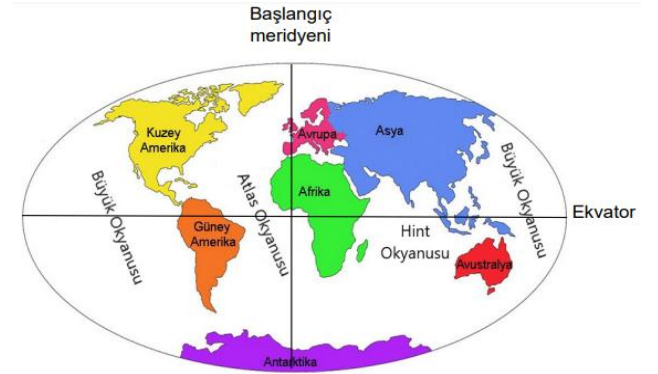
- A) Asya, Avrupa ve Afrika kıtaları arasında köprü konumunda olduğu
- B) Başlangıç paralelinin güneyinde yer aldığı
- C) Üç tarafının denizlerle çevrili olduğu
- D) Kuzey Yarım Küre'de yer aldığı

10. Ülkemiz Dünya üzerinde jeopolitik olarak önemli bir yere sahiptir. Akdeniz ve Karadeniz'i birbirine bağlayan İstanbul ve Çanakkale Boğazları, Asya ve Avrupa kıtaları arasında köprü vazifesi görmektedir. Karadeniz'e kıyısı olan ülkelerin diğer denizlere açılması için İstanbul ve Çanakkale Boğazlarından geçmesi gerekmektedir.

**Verilen bilgilere göre ülkemizin jeopolitik önemini arttıran özelliklerden hangisine değinilmiştir?**

- A) Asya ile Avrupa'yı birbirine bağlayan karayolları üzerinde olmasına
- B) Farklı medeniyetlere ait tarihi mekanlara sahip olmasına
- C) Petrol bakımından zengin olan ülkelere komşu olmasına
- D) İstanbul ve Çanakkale Boğazlarına sahip olmasına

11. Aşağıdaki Dünya haritasında kıtalar ve okyanuslar verilmiştir.



**Görselde verilen bilgilere göre;**

- I. Afrika kıtasının kuzey, güney, doğu ve Batı Yarım Kürelerde toprağı vardır.
- II. Topraklarının tamamı Kuzey Yarım Kürede yer alan kıtalar Kuzey Amerika ve Avrupa'dır.
- III. Hint Okyanusu'nun tamamı Güney Yarım Kürededir.

**yargılarından hangilerine ulaşılabilir?**

- A) I ve II
- B) I ve III
- C) II ve III
- D) I, II ve III

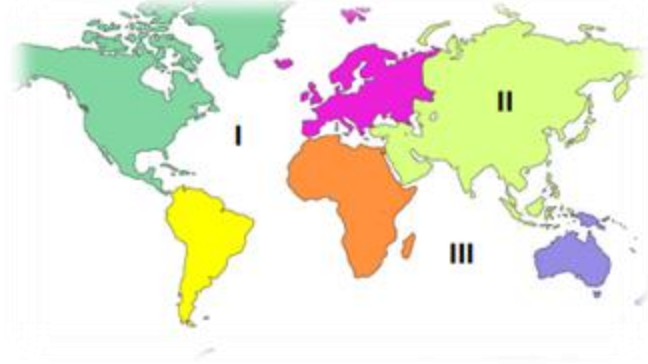
12.

Kıtalar ve Kapladıkları Alanlar	
Asya	44,337,317 km <sup>2</sup>
Afrika	30,221,652 km <sup>2</sup>
Kuzey Amerika	24,242,363 km <sup>2</sup>
Güney Amerika	17,795,429 km <sup>2</sup>
Antarktika	13,189,925 km <sup>2</sup>
Avrupa	10,181,129 km <sup>2</sup>
Okyanusya (Avustralya)	8,982,439 km <sup>2</sup>

**Tabloda verilen bilgilere göre, aşağıdaki yargılardan hangisine ulaşamaz?**

- A) Kuzey Amerika ve Afrika kıtalarının kapladığı alanların toplamı Asya Kıtası'nın kapladığı alandan fazladır.
- B) Avrupa Kıtası'nın kapladığı alan Okyanusya Kıtası'ndan yaklaşık 1 milyon km<sup>2</sup> fazladır.
- C) Kapladığı alan bakımından en küçük kıta Okyanusya Kıtası'dır.
- D) Kuzey ve Güney Amerika kıtalarının kapladıkları alanın toplamı Asya Kıtası'nın kapladığı alandan fazladır.

13. Aşağıdaki Dünya haritasında bazı yerler numaralarla gösterilmiştir.



Numaralarla gösterilen yerler arasında aşağıdakilerden hangisi yoktur?

- A) Hint Okyanusu
- B) Atlas Okyanusu
- C) Asya Kıtası
- D) Büyük Okyanus

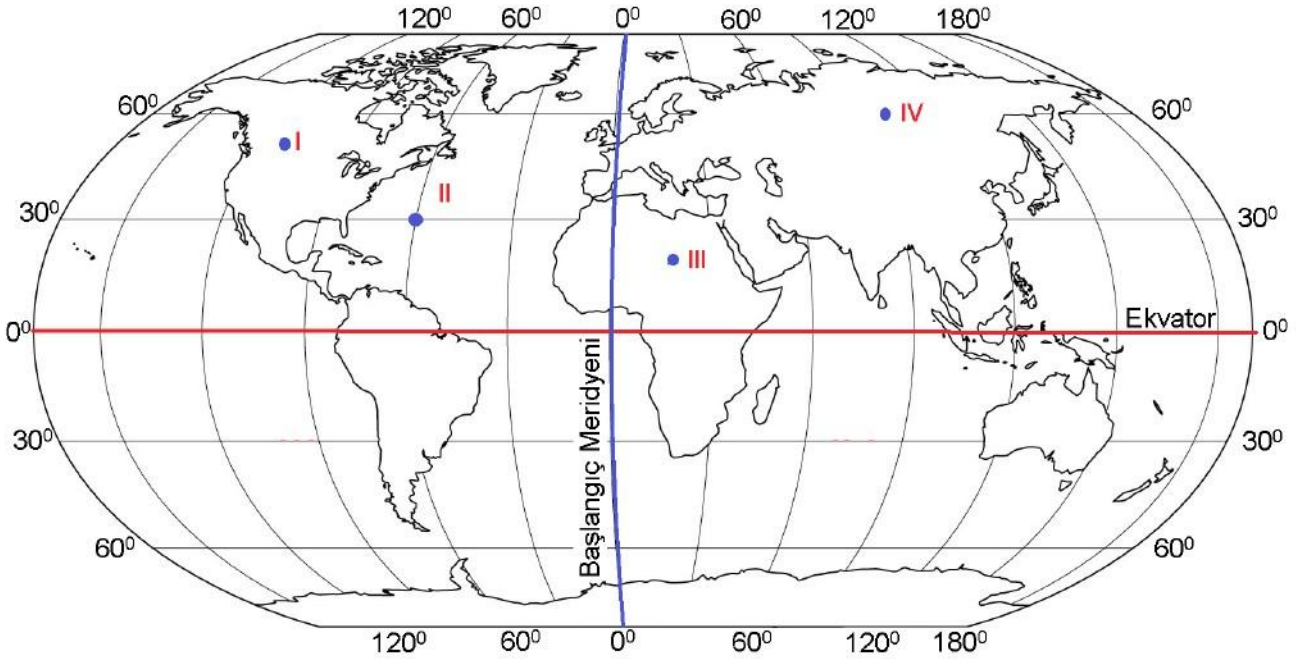
14.

- Türkiye, 36 derece – 42 derece Kuzey paralelleri ile 26 derece – 45 derece Doğu meridyenleri arasında yer alır.
- Türkiye, Kuzey Yarım Kürede ve Başlangıç Meridyeninin doğusunda bulunmaktadır.

**Buna göre aşağıdakilerden hangisi ile ilgili bilgi verilmiştir?**

- A) Türkiye'nin özel konumuyla
- B) Türkiye'nin stratejik önemiyle
- C) Türkiye'nin matematik konumuyla
- D) Türkiye'nin Dünya üzerindeki önemiyle

15. Aşağıdaki haritada, dört farklı nokta gösterilmiştir.



Haritaya göre aşağıdakilerden hangisi söylenemez?

- A) I ve II numaralı noktalar Batı Yarım Kürededir.
- B) II numaralı nokta Atlas Okyanusu'nda yer almaktadır.
- C) IV numaralı nokta Kuzey Yarım Küre ile Batı Yarım Kürede yer almaktadır.
- D) Verilen noktaların tamamı Ekvator'un kuzeyinde yer almaktadır.

**CEVAP ANAHTARI**

<b>1</b>	<b>2</b>	<b>3</b>	<b>4</b>	<b>5</b>	<b>6</b>	<b>7</b>	<b>8</b>	<b>9</b>	<b>10</b>
B	C	D	A	A	A	B	D	B	D
<b>11</b>	<b>12</b>	<b>13</b>	<b>14</b>	<b>15</b>					
A	D	D	C	C					

*İl ÖDM sorularından derlenmiştir...*

